

INTEGRÁLSZÁMÍTÁS

ISMÉTLÉS

1. $\int \operatorname{ch}(6x - 2) dx$ $\left[\frac{1}{6} \cdot \operatorname{sh}(6x - 2) + c \right]$
2. $\int 3e^{(8x-5)} dx$ $\left[\frac{3}{8} \cdot e^{(8x-5)} + c \right]$
3. $\int \frac{1}{\operatorname{ch}^2(9x + 7)} dx$ $\left[\frac{1}{9} \cdot \operatorname{th}(9x + 7) + c \right]$
4. $\int 5x^2 \cdot (2x^3 + 4)^6 dx$ $\left[5 \cdot \frac{1}{6} \cdot \frac{(2x^3 + 4)^7}{7} + c = \frac{5}{42} \cdot (2x^3 + 4)^7 + c \right]$
5. $\int \frac{7}{\sqrt[8]{11x + 3}} dx$ $\left[7 \cdot \frac{1}{11} \cdot \frac{(11x + 3)^{\frac{7}{8}}}{\frac{7}{8}} + c = \frac{8}{11} \cdot \sqrt[8]{(11x + 3)^7} + c \right]$
6. $\int \frac{-3}{\sin^2(4x + 2)} dx$ $\left[-3 \cdot \frac{1}{4} \cdot (-\operatorname{ctg}(4x + 2)) + c = \frac{3}{4} \cdot \operatorname{ctg}(4x + 2) + c \right]$
7. $\int \cos^5 x \cdot \sin x dx$ $\left[-\frac{(\cos x)^6}{6} + c = -\frac{1}{6} \cdot \cos^6 x + c \right]$
8. $\int 7x^5 \cdot \sqrt[3]{(2x^6 + 9)^4} dx$ $\left[7 \cdot \frac{1}{12} \cdot \frac{(2x^6 + 9)^{\frac{7}{3}}}{\frac{7}{3}} + c = \frac{1}{4} \cdot \sqrt[3]{(2x^6 + 9)^7} + c \right]$
9. $\int \frac{11x^3}{5x^4 + 17} dx$ $\left[11 \cdot \frac{1}{20} \cdot \ln |5x^4 + 17| + c = \frac{11}{20} \cdot \ln(5x^4 + 17) + c \right]$
10. $\int \frac{\operatorname{ch}(8x)}{3 + 2\operatorname{sh}(8x)} dx$ $\left[\frac{1}{16} \cdot \ln |3 + 2\operatorname{sh}(8x)| + c \right]$
11. $\int \operatorname{sh}(e^{4x} + 5) \cdot e^{4x} dx$ $\left[\frac{1}{4} \cdot \operatorname{ch}(e^{4x} + 5) + c \right]$
12. $\int \frac{3 \sin x}{2 + 7 \cos x} dx$ $\left[3 \cdot \left(-\frac{1}{7}\right) \cdot \ln |2 + 7 \cos x| + c = -\frac{3}{7} \cdot \ln |2 + 7 \cos x| + c \right]$
13. $\int \frac{\ln^3 x}{x} dx$ $\left[\frac{(\ln x)^4}{4} + c = \frac{1}{4} \cdot \ln^4 x + c \right]$
14. $\int \frac{8}{x \cdot \ln^5 x} dx$ $\left[8 \cdot \frac{(\ln x)^{-4}}{-4} + c = -2 \cdot \frac{1}{\ln^4 x} + c \right]$
15. $\int \frac{5}{9x^2 + 1} dx$ $\left[5 \cdot \frac{1}{3} \cdot \operatorname{atctg}(3x) + c = \frac{5}{3} \cdot \operatorname{atctg}(3x) + c \right]$

16. $\int \frac{1}{x^2 + 4} dx$ $\left[\frac{1}{4} \cdot 2 \cdot \operatorname{arctg}\left(\frac{1}{2}x\right) + c = \frac{1}{2} \cdot \operatorname{arctg}\left(\frac{1}{2}x\right) + c \right]$
17. $\int \frac{-2}{16x^2 + 25} dx$ $\left[-2 \cdot \frac{1}{25} \cdot \frac{5}{4} \cdot \operatorname{arctg}\left(\frac{4}{5}x\right) + c = -\frac{1}{10} \cdot \operatorname{arctg}\left(\frac{4}{5}x\right) + c \right]$
18. $\int \frac{7}{5x^2 + 3} dx$ $\left[7 \cdot \frac{1}{3} \cdot \sqrt{\frac{3}{5}} \cdot \operatorname{arctg}\left(\sqrt{\frac{5}{3}}x\right) + c = \frac{7\sqrt{15}}{15} \cdot \operatorname{arctg}\left(\frac{\sqrt{15}}{3}x\right) + c \right]$
19. $\int \frac{1}{x^2 + 2x + 5} dx$ $\left[\frac{1}{4} \cdot 2 \cdot \operatorname{arctg}\left(\frac{1}{2}x + \frac{1}{2}\right) + c = \frac{1}{2} \cdot \operatorname{arctg}\left(\frac{1}{2}x + \frac{1}{2}\right) + c \right]$
20. $\int \frac{3}{x^2 - 6x + 34} dx$ $\left[3 \cdot \frac{1}{25} \cdot 5 \cdot \operatorname{arctg}\left(\frac{1}{5}x - \frac{3}{5}\right) + c = \frac{3}{5} \cdot \operatorname{arctg}\left(\frac{1}{5}x - \frac{3}{5}\right) + c \right]$
21. $\int \frac{1}{\sqrt{4 - x^2}} dx$ $\left[\arcsin\left(\frac{1}{2}x\right) + c \right]$
22. $\int \frac{1}{\sqrt{2x - x^2}} dx$ $\left[\arcsin(x - 1) + c \right]$
23. $\int \frac{8}{\sqrt{6x - 9x^2}} dx$ $\left[8 \cdot \frac{1}{3} \cdot \arcsin(3x - 1) + c = \frac{8}{3} \cdot \arcsin(3x - 1) + c \right]$
24. $\int \frac{5}{\sqrt{-4x^2 - 12x - 8}} dx$ $\left[5 \cdot \frac{1}{2} \cdot \arcsin(2x + 3) + c = \frac{5}{2} \cdot \arcsin(2x + 3) + c \right]$
25. $\int \frac{11}{\sqrt{12x - 9x^2 - 3}} dx$ $\left[11 \cdot \frac{1}{3} \cdot \arcsin(3x - 2) + c = \frac{11}{3} \cdot \arcsin(3x - 2) + c \right]$
26. $\int (3x + 2) \cdot \operatorname{sh}(4x) dx$ $\left[\frac{1}{4} \cdot \operatorname{ch}(4x) \cdot (3x + 2) - \frac{3}{16} \cdot \operatorname{sh}(4x) + c \right]$
27. $\int (4 - 7x) \cdot \cos(2x + 1) dx$ $\left[\frac{1}{2} \cdot \sin(2x + 1) \cdot (4 - 7x) - \frac{7}{4} \cdot \cos(2x + 1) + c \right]$
28. $\int (8x^2 + 10) \cdot \ln(5x) dx$ $\left[\left(\frac{8}{3}x^3 + 10x\right) \cdot \ln(5x) - \frac{8}{9}x^3 - 10x + c \right]$
29. $\int \operatorname{arctg}(3x) dx$ $\left[x \cdot \operatorname{arctg}(3x) - \frac{1}{6} \ln|1 + 9x^2| + c = x \cdot \operatorname{arctg}(3x) - \frac{1}{6} \ln(1 + 9x^2) + c \right]$

RACIONÁLIS TÖRTFÜGGVÉNYEK INTEGRÁLÁSA

30. $\mathbf{B} \int \frac{8}{3x-7} dx$ $\left[\frac{8}{3} \cdot \ln |3x-7| + c \right]$
31. $\mathbf{B} \int \frac{2}{5-9x} dx$ $\left[-\frac{2}{9} \cdot \ln |5-9x| + c \right]$
32. $\mathbf{B} \int \frac{5}{(2x+4)^6} dx$ $\left[-\frac{1}{2} \cdot \frac{1}{(2x+4)^5} + c \right]$
33. $\mathbf{B} \int \frac{13}{(2-11x)^7} dx$ $\left[\frac{13}{66} \cdot \frac{1}{(2-11x)^6} + c \right]$
34. $\mathbf{B} \int \frac{x}{(3x+2)^4} dx$ $\left[-\frac{1}{18} \cdot \frac{1}{(3x+2)^2} + \frac{2}{27} \cdot \frac{1}{(3x+2)^3} + c \right]$
35. $\mathbf{B} \int \frac{7x}{(3x-4)^6} dx$ $\left[-\frac{7}{36} \cdot \frac{1}{(3x-4)^4} - \frac{28}{45} \cdot \frac{1}{(3x-4)^5} + c \right]$
36. $\mathbf{B} \int \frac{6x}{(5x-2)^2} dx$ $\left[-\frac{12}{25} \cdot \frac{1}{(5x-2)} + \frac{6}{25} \cdot \ln |5x-2| + c \right]$
37. $\mathbf{B} \int \frac{3x+1}{(2x-3)^5} dx$ $\left[-\frac{11}{16} \cdot \frac{1}{(2x-3)^4} - \frac{1}{4} \cdot \frac{1}{(2x-3)^3} + c \right]$
38. $\mathbf{B} \int \frac{2}{x^2+4x+5} dx$ $[2 \cdot \operatorname{arctg}(x+2) + c]$
39. $\mathbf{B} \int \frac{17}{x^2+6x+20} dx$
 $\left[\frac{17\sqrt{11}}{11} \cdot \operatorname{arctg} \left(\frac{1}{\sqrt{11}}x + \frac{3}{\sqrt{11}} \right) + c = \frac{17}{\sqrt{11}} \cdot \operatorname{arctg} \left(\frac{1}{\sqrt{11}}x + \frac{3}{\sqrt{11}} \right) + c \right]$
40. $\mathbf{B} \int \frac{x}{x^2+64} dx$ $\left[\frac{1}{2} \cdot \ln |x^2+64| + c = \frac{1}{2} \cdot \ln(x^2+64) + c \right]$
41. $\mathbf{B} \int \frac{7x}{x^2+15} dx$ $\left[\frac{7}{2} \cdot \ln |x^2+15| + c = \frac{7}{2} \cdot \ln(x^2+15) + c \right]$
42. $\mathbf{B} \int \frac{x}{x^2+4x+5} dx$
 $\left[\frac{1}{2} \cdot \ln |x^2+4x+5| - 2 \cdot \operatorname{arctg}(x+2) + c = \frac{1}{2} \cdot \ln(x^2+4x+5) - 2 \cdot \operatorname{arctg}(x+2) + c \right]$
43. $\mathbf{B} \int \frac{5x}{x^2-8x+25} dx$
 $\left[\frac{5}{2} \cdot \ln |x^2-8x+25| + \frac{20}{3} \cdot \operatorname{arctg} \left(\frac{1}{3}x - \frac{4}{3} \right) + c = \frac{5}{2} \cdot \ln(x^2-8x+25) + \frac{20}{3} \cdot \operatorname{arctg} \left(\frac{1}{3}x - \frac{4}{3} \right) + c \right]$

$$44. \mathbf{B} \int \frac{7x+1}{x^2+16} dx \quad \left[\frac{7}{2} \cdot \ln|x^2+16| + \frac{1}{4} \cdot \operatorname{arctg}\left(\frac{1}{4}x\right) + c = \frac{7}{2} \cdot \ln(x^2+16) + \frac{1}{4} \cdot \operatorname{arctg}\left(\frac{1}{4}x\right) + c \right]$$

$$45. \mathbf{B} \int \frac{3x+5}{x^2+6x+13} dx \quad \left[\frac{3}{2} \cdot \ln|x^2+6x+13| - 2 \cdot \operatorname{arctg}\left(\frac{1}{2}x + \frac{3}{2}\right) + c = \frac{3}{2} \cdot \ln(x^2+6x+13) - 2 \cdot \operatorname{arctg}\left(\frac{1}{2}x + \frac{3}{2}\right) + c \right]$$

$$46. \mathbf{B} \int \left(\frac{2}{(x+5)^3} + \frac{3}{4x+1} \right) dx \quad \left[\frac{1}{(x+5)^2} + \frac{3}{4} \cdot \ln|4x+1| + c \right]$$

$$47. \mathbf{B} \int \left(\frac{8}{(2x+3)^4} - \frac{6}{5x-2} \right) dx \quad \left[-\frac{4}{3} \cdot \frac{1}{(2x+3)^3} - \frac{6}{5} \cdot \ln|5x-2| + c \right]$$

48. Milyen típusú racionális törték összegére bontaná az alábbi törtéket?

$$(a) \mathbf{B} f(x) = \frac{3}{x^2+4x} \quad \left[\frac{A}{x} + \frac{B}{x+4} \right]$$

$$(b) \mathbf{B} f(x) = \frac{x+1}{9x^3+7x^2} \quad \left[\frac{A}{x} + \frac{B}{x^2} + \frac{C}{9x+7} \right]$$

$$(c) \mathbf{B} f(x) = \frac{8x-x^2+3}{x^4-x^3} \quad \left[\frac{A}{x} + \frac{B}{x^2} + \frac{C}{x^3} + \frac{D}{x-1} \right]$$

$$(d) \mathbf{B} f(x) = \frac{5x-6}{x(8x^2+5)} \quad \left[\frac{A}{x} + \frac{Bx+c}{8x^2+5} \right]$$

$$(e) \mathbf{B} f(x) = \frac{2}{x(x^2+x-6)} \quad \left[\frac{A}{x} + \frac{B}{x-2} + \frac{C}{x+3} \right]$$

$$(f) \mathbf{B} f(x) = \frac{6x}{x(x^2+8x+16)} \quad \left[\frac{A}{x} + \frac{B}{x+4} + \frac{C}{(x+4)^2} \right]$$

$$(g) \mathbf{B} f(x) = \frac{x^2}{4x^3+12x^2+9x} \quad \left[\frac{A}{x} + \frac{B}{2x+3} + \frac{C}{(2x+3)^2} \right]$$

$$(h) \mathbf{B} f(x) = \frac{2x^2-7x}{(x+8)(5x^2+3)^3} \quad \left[\frac{A}{x+8} + \frac{Bx+C}{5x^2+3} + \frac{Dx+E}{(5x^2+3)^2} + \frac{Fx+G}{(5x^2+3)^3} \right]$$

$$(i) \mathbf{B} f(x) = \frac{3x^3-2x^2+1}{x(x-1)^2(x^2+1)} \quad \left[\frac{A}{x} + \frac{B}{x-1} + \frac{C}{(x-1)^2} + \frac{Dx+E}{x^2+1} \right]$$

$$(j) \mathbf{B} f(x) = \frac{8x^2+7x^4-9x}{(x+5)^3(2x^2+9)^2(11x-6)} \quad \left[\frac{A}{x+5} + \frac{B}{(x+5)^2} + \frac{C}{(x+5)^3} + \frac{Dx+E}{2x^2+9} + \frac{Fx+G}{(2x^2+9)^2} + \frac{H}{11x-6} \right]$$

49. **B** $\int \frac{2}{x^2 + 2x - 3} dx$ $\left[\frac{1}{2} \cdot \ln|x - 1| - \frac{1}{2} \cdot \ln|x + 3| + c \right]$
50. **B** $\int \frac{3x - 5}{5x^2 + 14x - 3} dx$
 $\left[5x^2 + 14x - 3 = 5\left(x - \frac{1}{5}\right)(x + 3) = (5x - 1)(x + 3); -\frac{11}{40} \cdot \ln|5x - 1| + \frac{7}{8} \cdot \ln|x + 3| + c \right]$
51. **B** $\int \frac{5x + 3}{(x - 1)(x^2 - 6x + 9)} dx$ $\left[2 \cdot \ln|x - 1| - 2 \cdot \ln|x - 3| - 9 \cdot \frac{1}{x - 3} + c \right]$
52. **B** $\int \frac{5x - 48}{x^3 + 16x} dx$ $\left[-3 \cdot \ln|x| + \frac{3}{2} \cdot \ln(x^2 + 16) + \frac{5}{4} \cdot \operatorname{arctg}\left(\frac{1}{4}x\right) + c \right]$
53. **B** $\int \frac{x^2 + 1}{3x^3 - 3x} dx$ $\left[\frac{1}{3} \cdot (\ln|x - 1| - \ln|x| + \ln|x + 1|) + c \right]$
54. **B** $\int \frac{2x^2 + 11x + 16}{x^3 + 4x^2 + 8x} dx$ $\left[2 \cdot \ln|x| + \frac{3}{2} \operatorname{arctg}\left(\frac{1}{2}x + 1\right) + c \right]$
55. **B** $\int \frac{1}{4x^2 + 6x + 2} dx$
 $\left[4x^2 + 6x + 2 = 4\left(x + \frac{1}{2}\right)(x + 1) = (4x + 2)(x + 1); -\frac{1}{2} \cdot \ln|x + 1| + \frac{1}{2} \cdot \ln|4x + 2| + c \right]$
56. **B** $\int \frac{6 + 2x^2 - 3x}{(x^2 + 2)(x + 3)} dx$ $\left[-\frac{1}{2} \cdot \ln(x^2 + 2) + 3 \cdot \ln|x + 3| + c \right]$
57. $\int \frac{3x^2 + 7}{(x^2 + 9)(x - 8)} dx$ $\left[\frac{199}{73} \cdot \ln|x - 8| + \frac{10}{73} \cdot \ln(x^2 + 9) + \frac{160}{219} \cdot \operatorname{arctg}\left(\frac{1}{3}x\right) + c \right]$
58. $\int \frac{x^4 + 3x^3 + 2x^2 + 1}{x^5 + x^3} dx$ $\left[-\frac{1}{2} \cdot \frac{1}{x^2} + \ln|x| + 3 \cdot \operatorname{arctg}x + c \right]$
59. $\int \frac{27x^3 + 29x^2 + 13x + 1}{x(3x + 1)^3} dx$ $\left[\ln|x| - \frac{2}{9} \cdot \frac{1}{3x + 1} - \frac{5}{9} \cdot \frac{1}{(3x + 1)^2} + c \right]$
60. $\int \frac{5x^3 + 11x^2 + 63}{2x^4 + 9x^2} dx$ $\left[\frac{5}{4} \cdot \ln(2x^2 + 9) - \frac{\sqrt{2}}{2} \cdot \operatorname{arctg}\left(\frac{\sqrt{2}}{3}x\right) - 7 \cdot \frac{1}{x} + c \right]$
61. $\int \frac{2x^3 + x^2 + 18x - 9}{x^4 - 81} dx$ $\left[\ln|x - 3| + \ln|x + 3| + \frac{1}{3} \cdot \operatorname{arctg}\left(\frac{1}{3}x\right) + c \right]$
62. $\int \frac{6x^3 + 9x^2 + 72x + 85}{(x^2 + 25)(x^2 + 2x - 15)} dx$
 $\left[\ln(x^2 + 25) + \frac{1}{5} \cdot \operatorname{arctg}\left(\frac{1}{5}x\right) + 2 \cdot \ln|x - 3| + 2 \cdot \ln|x + 5| + c \right]$
63. **B** $\int \frac{2x}{x + 1} dx$ $[2x - 2 \ln|x + 1| + c]$

64. $\mathbf{B} \int \frac{5x}{3x-4} dx$ $\left[\frac{5}{3}x + \frac{20}{9} \cdot \ln|3x-4| + c \right]$
65. $\mathbf{B} \int \frac{x^2}{x+2} dx$ $\left[\frac{1}{2}x^2 - 2x + 4 \cdot \ln|x+2| + c \right]$
66. $\mathbf{B} \int \frac{8x^2}{4x-5} dx$ $\left[x^2 + \frac{5}{2}x + \frac{25}{8} \cdot \ln|4x-5| + c \right]$
67. $\int \frac{x^3 + x^2 + x + 2}{3x^2 + x - 2} dx$
 $\left[3x^2 + x - 2 = 3(x+1)(x - \frac{2}{3}) = (x+1)(3x-2); \frac{1}{6}x^2 + \frac{2}{9}x + \frac{92}{135} \cdot \ln|3x-2| - \frac{1}{5} \cdot \ln|x+1| + c \right]$
68. $\int \frac{5x^5 + 2x^4 - 4x^3 + 3x^2 - 3x + 3}{x^4 + x^2} dx$
 $\left[\frac{5}{2}x^2 + 2x - 3 \cdot \ln|x| - 3 \cdot \frac{1}{x} - 3 \cdot \ln(x^2 + 1) - 2 \cdot \operatorname{arctg}x + c \right]$
69. $\int \frac{2x^4 + 15x^3 + 33x^2 + 22x - 6}{x^2 + 6x + 8} dx$ $\left[\frac{2}{3}x^3 + \frac{3}{2}x^2 - x - 3 \cdot \ln|x+2| + 7 \cdot \ln|x+4| + c \right]$

INTEGRÁLÁS HELYETTESÍTÉSSEL

70. $\mathbf{B} \int e^x \cdot \sin(e^x) dx$ $[-\cos(e^x) + c; t = e^x]$
71. $\mathbf{B} \int \frac{1}{\sqrt[3]{x^2}} \cdot \cos(\sqrt[3]{x}) dx$ $[3 \cdot \sin(\sqrt[3]{x}) + c; t = \sqrt[3]{x}]$
72. $\mathbf{B} \int \frac{1}{\sqrt[3]{x^2} + x\sqrt[3]{x}} dx$ $[3 \cdot \operatorname{arctg}(\sqrt[3]{x}) + c; t = \sqrt[3]{x}]$
73. $\mathbf{B} \int \frac{e^x}{\cos^2(e^x)} dx$ $[\operatorname{tg}(e^x) + c; t = e^x]$
74. $\mathbf{B} \int e^{\sqrt{x}} dx$ $[2 \cdot \sqrt{x} \cdot e^{\sqrt{x}} - 2 \cdot e^{\sqrt{x}} + c; t = \sqrt{x}]$
75. $\int \frac{2}{4 + \sqrt{x}} dx$ $[4 \cdot \sqrt{x} - 16 \cdot \ln|4 + \sqrt{x}| + c; t = \sqrt{x}]$
76. $\mathbf{B} \int \frac{1}{\sqrt{x} \cdot \sin^2(\sqrt{x})} dx$ $[-2 \cdot \operatorname{ctg}(\sqrt{x}) + c; t = \sqrt{x}]$
77. $\mathbf{B} \int \frac{\cos(\sqrt[3]{x})}{\sqrt[3]{x^2}} dx$ $[3 \cdot \sin(\sqrt[3]{x}) + c; t = \sqrt[3]{x}]$

78. **B** $\int \frac{3}{x + \sqrt{x}} dx$ $[6 \cdot \ln |\sqrt{x} + 1| + c; t = \sqrt{x}]$
79. **B** $\int \frac{e^x}{\sqrt{1 - e^{2x}}} dx$ $[\arcsin(e^x) + c; t = e^x]$
80. **B** $\int \frac{e^x}{(e^x + 2)^3} dx$ $\left[-\frac{1}{2} \cdot \frac{1}{(e^x + 2)^2} + c; t = e^x\right]$
81. $\int \sqrt{x} \cdot \sin(\sqrt{x}) dx$ $[-2 \cdot x \cdot \cos(\sqrt{x}) + 4 \cdot \cos(\sqrt{x}) + 4 \cdot \sqrt{x} \cdot \sin(\sqrt{x}) + c; t = \sqrt{x}]$
82. $\int \frac{e^{2x}}{1 + e^x} dx$ $[e^x - \ln(1 + e^x) + c; t = e^x]$
83. $\int \sin(\ln x) dx$ $\left[-\frac{1}{2} \cdot x \cdot \cos(\ln(x)) + \frac{1}{2} \cdot x \cdot \sin(\ln(x)) + c; t = \ln x\right]$
84. $\int \frac{e^{3x}}{e^x + 2} dx$ $\left[\frac{1}{2} \cdot e^{2x} - 2 \cdot e^x + 4 \cdot \ln(e^x + 2) + c; t = e^x\right]$
85. $\int \frac{5}{e^{2x} + 1} dx$ $\left[5 \cdot \ln(e^x) - \frac{5}{2} \ln(e^{2x} + 1) + c; t = e^x\right]$
86. **B** $\int \operatorname{arctg}(\sqrt{x}) dx$ $[x \cdot \operatorname{arctg}(\sqrt{x}) - \sqrt{x} + \operatorname{arctg}(\sqrt{x}) + c; t = \sqrt{x}]$
87. $\int \frac{\sqrt{x+1} + 1}{\sqrt{x+1} - 1} dx$ $[x + 1 + 4 \cdot \sqrt{x+1} + 4 \cdot \ln |\sqrt{x+1} - 1| + c; t = \sqrt{x+1}]$
88. $\int \frac{\sqrt{x}}{2 - \sqrt{x}} dx$ $[-x - 4\sqrt{x} - 8 \cdot \ln |2 - \sqrt{x}| + c; t = \sqrt{x}]$
89. **B** $\int \cos(\sqrt{x-3}) dx$ $[2 \cdot \cos(\sqrt{x-3}) + 2 \cdot \sqrt{x-3} \cdot \sin(\sqrt{x-3}) + c; t = \sqrt{x-3}]$
90. $\int \frac{2e^{2x} + 3e^x}{e^{2x} + 1} dx$ $[\ln(e^{2x} + 1) + 3 \cdot \operatorname{arctg}(e^x) + c; t = e^x]$
91. $\int \frac{5e^{2x} - 8e^x}{2e^{2x} + 9e^x - 5} dx$ $\left[3 \cdot \ln(e^x + 5) - \frac{1}{2} \cdot \ln |2e^x - 1| + c; t = e^x\right]$
92. **B** $\int \frac{3x - 4}{\sqrt{6x - 7}} dx$ $\left[\frac{1}{18} \cdot \sqrt{(6x - 7)^3} - \frac{1}{6} \cdot \sqrt{6x - 7} + c; t = \sqrt{6x - 7}\right]$
93. **B** $\int \frac{5x + 1}{\sqrt{2 - 3x}} dx$ $\left[\frac{10}{27} \cdot \sqrt{(2 - 3x)^3} - \frac{26}{9} \cdot \sqrt{2 - 3x} + c; t = \sqrt{2 - 3x}\right]$
94. **B** $\int (2x - 3)\sqrt{7x + 2} dx$ $\left[\frac{4}{245} \cdot \sqrt{(7x + 2)^5} - \frac{50}{147} \cdot \sqrt{(7x + 2)^3} + c; t = \sqrt{7x + 2}\right]$
95. **B** $\int (4 - 5x)\sqrt{2 + 9x} dx$ $\left[-\frac{2}{81} \cdot \sqrt{(2 + 9x)^5} + \frac{92}{243} \cdot \sqrt{(2 + 9x)^3} + c; t = \sqrt{2 + 9x}\right]$

96. **B** $\int (4x + 1)\sqrt[4]{3x + 2} dx$ $\left[\frac{16}{81} \cdot \sqrt[4]{(3x + 2)^9} - \frac{4}{9} \cdot \sqrt[4]{(3x + 2)^5} + c; t = \sqrt[4]{3x + 2} \right]$
97. **B** $\int \sin(\sqrt{2x + 5}) dx$ $\left[\sin(\sqrt{2x + 5}) - \sqrt{2x + 5} \cos(\sqrt{2x + 5}) + c; t = \sqrt{2x + 5} \right]$
98. $\int \frac{7\sqrt{x} + 17}{x\sqrt{x} + 4x + 3\sqrt{x}} dx$ $\left[10 \cdot \ln|\sqrt{x} + 1| + 4 \cdot \ln|\sqrt{x} + 3| + c; t = \sqrt{x} \right]$
99. $\int e^{\sqrt{4-2x}} dx$ $\left[-\sqrt{4-2x} \cdot e^{\sqrt{4-2x}} + e^{\sqrt{4-2x}} + c; t = \sqrt{4-2x} \right]$
100. $\int \frac{5\sqrt[3]{x} - 11}{x\sqrt[3]{x} - 3x - 10\sqrt[3]{x^2}} dx$ $\left[9 \cdot \ln|\sqrt[3]{x} + 2| + 6 \cdot \ln|\sqrt[3]{x} - 5| + c; t = \sqrt[3]{x} \right]$
101. $\int \frac{9\sqrt[3]{x^2} + 4\sqrt[3]{x} - 1}{(2\sqrt[3]{x} - 1)(9\sqrt[3]{x^2} + 1)5\sqrt[3]{x^2}} dx$ $\left[\frac{3}{10} \cdot \ln|2\sqrt[3]{x} - 1| + \frac{2}{5} \arctg(3\sqrt[3]{x}) + c; t = \sqrt[3]{x} \right]$
102. $\int \frac{e^x - 8}{e^x + 4} dx$ $\left[3 \cdot \ln(e^x + 4) - 2 \cdot \ln(e^x) + c; t = e^x \right]$
103. $\int \frac{5e^{2x} - 23e^x}{e^{2x} + 4e^x - 5} dx$ $\left[8 \cdot \ln(e^x + 5) - 3 \cdot \ln|e^x - 1| + c; t = e^x \right]$
104. $\int \frac{7 - \sqrt[3]{x}}{(2\sqrt[3]{x} - 1)(\sqrt[3]{x} + 6)3\sqrt[3]{x^2}} dx$ $\left[-\ln|\sqrt[3]{x} + 6| + \frac{1}{2} \cdot \ln|2\sqrt[3]{x} - 1| + c; t = \sqrt[3]{x} \right]$
105. $\int \frac{14}{6\sqrt[3]{x^4} + \sqrt[3]{x^2}} dx$ $\left[7 \cdot \sqrt{6} \cdot \arctg(\sqrt{6} \cdot \sqrt[3]{x}) + c; t = \sqrt[3]{x} \right]$
106. $\int \frac{(6e^{2x} + 30 + 7e^x)e^x}{(e^x + 4)(3e^{2x} + 1)} dx$ $\left[2 \cdot \ln(e^x + 4) + \frac{7}{\sqrt{3}} \cdot \arctg(\sqrt{3} \cdot e^x) + c; t = e^x \right]$
107. $\int \frac{\sqrt[3]{x^2} + 21\sqrt[3]{x} - 32}{(\sqrt[3]{x} + 7)(\sqrt[3]{x^2} + 16)3\sqrt[3]{x^2}} dx$
 $\left[-2 \ln|\sqrt[3]{x} + 7| + \frac{3}{2} \cdot \ln|\sqrt[3]{x^2} + 16| + c = -2 \ln|\sqrt[3]{x} + 7| + \frac{3}{2} \cdot \ln(\sqrt[3]{x^2} + 16) + c; t = \sqrt[3]{x} \right]$
108. $\int_0^{13} (5x - 7)\sqrt[3]{2x + 1} dx$ $\left[886, 07; D = R; t = \sqrt[3]{2x + 1} \right]$
109. $\int_0^3 \frac{\sqrt{x+1}}{x+5} dx$ $\left[0, 71; D = [-1; \infty); t = \sqrt{x+1} \right]$
110. $\int_0^\pi \sin(\sqrt[3]{x}) dx$ $\left[2, 69; D = R; t = \sqrt[3]{x} \right]$
111. $\int_{-2}^1 e^{\sqrt{2-x}} dx$ $\left[\left[-2 \cdot e^{\sqrt{2-x}} \cdot \sqrt{2-x} + 2 \cdot e^{\sqrt{2-x}} \right]_{-2}^1 = 2e^2; D = (-\infty; 2]; t = \sqrt{2-x} \right]$

112. $\int_1^8 \frac{e^{\sqrt[3]{x}}}{\sqrt[3]{x^2}} dx$ $[3e^2 - 3e = 14,01; D = R - \{0\}; t = \sqrt[3]{x}]$
113. $\int_0^5 \frac{x}{\sqrt{3x+1}} dx$ $[4; D = (-\frac{1}{3}; \infty); t = \sqrt{3x+1}]$
114. $\int_{-1}^0 \frac{3}{e^x + 1} dx$ $[1,86; D = R; t = e^x]$
115. $\int_0^1 \frac{4}{e^x + 2} dx$ $[1,09; D = R; t = e^x]$

IMPROPRIUS INTEGRÁL

116. **B** $\int_2^\infty \frac{1}{x^2} dx$ $[\frac{1}{2}; D = R - \{0\}]$
117. **B** $\int_3^\infty \frac{5}{x^3} dx$ $[\frac{5}{18}; D = R - \{0\}]$
118. **B** $\int_{-\infty}^{-3} \frac{1}{4x^2} dx$ $[\frac{1}{12}; D = R - \{0\}]$
119. **B** $\int_1^\infty \frac{2}{(x+1)^5} dx$ $[\frac{1}{32}; D = R - \{-1\}]$
120. **B** $\int_5^\infty \frac{3}{7x^3} dx$ $[\frac{3}{350}; D = R - \{0\}]$
121. **B** $\int_1^\infty \frac{1}{x} dx$ $[\infty; D = R - \{0\}]$
122. **B** $\int_{-\infty}^{-1} \frac{4}{x} dx$ $[-\infty; D = R - \{0\}]$
123. **B** $\int_e^\infty \frac{1}{x \cdot \ln x} dx$ $[\infty; D = (0; 1) \cup (1; \infty)]$
124. **B** $\int_e^\infty \frac{1}{x \cdot \ln^2 x} dx$ $[1; D = (0; 1) \cup (1; \infty)]$
125. **B** $\int_6^\infty \frac{2}{(x-3)^4} dx$ $[\frac{2}{81}; D = R - \{3\}]$
126. **B** $\int_0^\infty e^{-2x} dx$ $[\frac{1}{2}; D = R]$
127. **B** $\int_{-\infty}^{-1} e^{-4x+3} dx$ $[\infty; D = R]$

128. $\int_{-\infty}^{-1} \frac{x}{x^2 + 1} dx$ $[-\infty; D = R]$
129. **B** $\int_{-\infty}^1 \frac{1}{\sqrt[3]{4 - 3x}} dx$ $[\infty; D = R - \{\frac{4}{3}\}]$
130. **B** $\int_{-\infty}^{-1} \frac{1}{1 + 9x^2} dx$ $[0, 11; D = R]$
131. **B** $\int_1^{\infty} \frac{6}{5\sqrt[3]{x}} dx$ $[\infty; D = R - \{0\}]$
132. $\int_{-\infty}^{-4} \frac{4}{x^2 - 4} dx$ $[\ln(3); D = R - \{-2; 2\}]$
133. $\int_{-\infty}^0 \frac{2}{3 + x^2} dx$ $\left[\frac{\sqrt{3}}{3}\pi; D = R\right]$
134. $\int_3^{\infty} \left(\frac{1}{\sqrt{x+1}} + \frac{1}{(x+1)^2}\right) dx$ $[\infty; D = (-1; \infty)]$
135. $\int_{-\infty}^{\infty} \frac{2}{1 + x^2} dx$ $[2\pi; D = R]$
136. $\int_{-\infty}^{\infty} \frac{4}{1 + x^2} dx$ $[4\pi; D = R]$
137. $\int_{-\infty}^{\infty} e^{3x} dx$ $[\infty; D = R]$
138. $\int_{-\infty}^{\infty} \frac{5}{x^2 - 2x + 2} dx$ $[5\pi; D = R]$
139. $\int_{-\infty}^{\infty} \frac{3}{x^2 + 2x + 2} dx$ $[3\pi; D = R]$
140. **B** $\int_0^3 \frac{1}{\sqrt{x}} dx$ $[2\sqrt{3}; D = (0; +\infty)]$
141. $\int_0^2 \frac{x}{\sqrt{2-x}} dx$ $\left[\frac{8\sqrt{2}}{3}; D = (-\infty; 2)\right]$
142. **B** $\int_{-3}^0 \frac{1}{\sqrt[3]{(x+3)^2}} dx$ $[3\sqrt[3]{3}; D = R - \{-3\}]$
143. **B** $\int_{-3}^0 \frac{1}{(x+3)^2} dx$ $[\infty; D = R - \{-3\}]$
144. **B** $\int_{-2}^0 \frac{7}{(x+2)^3} dx$ $[\infty; D = R - \{-2\}]$

145. $\int_0^2 \frac{3}{(4-2x)^4} dx$ $[\infty; D = R - \{2\}]$
146. $\int_1^5 \frac{1}{\sqrt[5]{(5-x)^3}} dx$ $\left[\frac{5}{2} \cdot \sqrt[5]{16}; D = R - \{5\}\right]$
147. $\int_{\frac{4}{3}}^5 \frac{1}{\sqrt{3x-4}} dx$ $\left[\frac{2\sqrt{11}}{3}; D = \left(\frac{4}{3}; \infty\right)\right]$
148. $\int_{-1}^0 \frac{1}{\sqrt{1-x^2}} dx$ $\left[\frac{\pi}{2}; D = (-1; 1)\right]$
149. $\int_0^2 \frac{1}{\sqrt{4-x^2}} dx$ $\left[\frac{\pi}{2}; D = (-2; 2)\right]$
150. $\int_0^5 \frac{1}{\sqrt{25-x^2}} dx$ $\left[\frac{1}{2}\pi; D = (-5; 5)\right]$
151. **B** $\int_{-1}^0 \frac{3}{(1+x^2) \cdot \operatorname{arctg}^2 x} dx$ $[\infty; D = R - \{0\}]$
152. **B** $\int_0^1 \frac{7}{(1+x^2) \cdot \operatorname{arctg}^3 x} dx$ $[\infty; D = R - \{0\}]$
153. **B** $\int_0^1 \frac{1}{x^2} \cdot e^{\frac{1}{x}} dx$ $[\infty; D = R - \{0\}]$
154. $\int_1^e \frac{1}{x \cdot \sqrt{\ln x}} dx$ $[2; D = (1; \infty)]$
155. $\int_0^{\frac{1}{e}} \frac{1}{x \cdot \ln^3 x} dx$ $\left[-\frac{1}{2}; D = (0; 1) \cup (1; \infty)\right]$
156. $\int_0^{\frac{2}{3}} \frac{3}{\sqrt{4-9x^2}} dx$ $\left[\frac{\pi}{2}; D = \left(-\frac{2}{3}; \frac{2}{3}\right)\right]$
157. $\int_{-1}^1 \frac{x}{\sqrt{1-x^2}} dx$ $[0; D = (-1; 1)]$
158. $\int_0^3 \frac{1}{\sqrt{3x-x^2}} dx$ $[\pi; D = (0; 3)]$
159. $\int_0^6 \frac{1}{\sqrt{6x-x^2}} dx$ $[\pi; D = (0; 6)]$
160. $\int_0^{\frac{\pi}{2}} \frac{\cos x}{\sin^2 x} dx$ $[\infty; D = R - \{k \cdot \pi\}; k \in \mathbb{Z}]$
161. $\int_0^{\frac{\pi}{2}} \frac{\cos x}{\sqrt{\sin x}} dx$ $[2; D = (0 + k \cdot 2\pi; \pi + k \cdot 2\pi); k \in \mathbb{Z}]$

$$162. \int_3^6 \left(\frac{1}{\sqrt[3]{x-6}} + \frac{1}{(x-6)^2} \right) dx \quad [\infty; D = R - \{6\}]$$

$$163. \int_1^3 \left(\frac{1}{\sqrt[3]{3x-9}} + \frac{1}{(3x-9)^2} \right) dx$$

$$164. \int_{-5}^5 \frac{1}{\sqrt[5]{(x+2)^3}} dx \quad [1, 57; D = R - \{-2\}]$$

$$165. \int_1^{10} \frac{1}{\sqrt[3]{(x-2)^2}} dx \quad [9; D = R - \{2\}]$$

$$166. \int_0^5 \frac{1}{\sqrt[5]{(x-4)^4}} dx \quad [11, 60; D = R - \{4\}]$$

VEKTOROK

1. **B** Legyen $\underline{a}(-3; 2; 4)$, $\underline{b}(-2; 1; -2)$, $\underline{c}(3; -4; 5)$, $\underline{d}(8; -5; 7)$.

(a) $2\underline{a} - 4\underline{c} + 6\underline{d}$ [(30; -10; 30)]

(b) $\underline{c} + 3\underline{b} - 7\underline{a}$ [(18; -15; -29)]

(c) $\|2\underline{d} - 3\underline{c} + \underline{b}\|$ [$\|(5; 3; -3)\| = 6, 56$]

(d) $\|4\underline{a} + 8\underline{b} - 7\underline{c}\|$ [$\|(-49; 44; 35)\| = 74, 58$]

2. **B** Legyen $\underline{a}(1, 7; 2, 3; -4, 4)$, $\underline{b}(3, 1; -1, 7; 5)$, $\underline{c}(-2, 2; 4; -3, 5)$, $\underline{d}(8, 1; -2, 8; -1, 7)$.

(a) $-3\underline{b} + 5\underline{c} - \underline{a}$ [(-22; 22, 8; -28, 1)]

(b) $6\underline{c} + 3\underline{d} - 2\underline{b}$ [(4, 9; 19; -36, 1)]

(c) $\|\underline{d} + 2\underline{a} - 5\underline{b}\|$ [$\|(-4; 10, 3; -35, 5)\| = 37, 18$]

(d) $\|2\underline{b} - \underline{c} - 3\underline{a}\|$ [$\|(3, 3; -14, 3; 26, 7)\| = 30, 47$]

3. **B** Legyen $\underline{a}(2; 5; -8)$, $\underline{b}(-2; 4; 2)$, $\underline{c}(3; -4; 5)$, $\underline{d}(4; 2; -1)$.

(a) Határozza meg a \underline{b} vektor irányába mutató egységvektort! [$(-\frac{1}{\sqrt{6}}; \frac{2}{\sqrt{6}}; \frac{1}{\sqrt{6}})$]

(b) Határozza meg a $2\underline{a} - \underline{d}$ vektor irányába mutató egységvektort! [$(0; \frac{8}{17}; -\frac{15}{17})$]

(c) Határozza meg a \underline{c} vektorral ellentétes irányú egységvektort! [$(-\frac{3}{5\sqrt{2}}; \frac{4}{5\sqrt{2}}; -\frac{1}{\sqrt{2}})$]

(d) Határozza meg a $3\underline{d} + 2\underline{b}$ vektorral ellentétes irányú egységvektort! [$(-\frac{8}{3\sqrt{29}}; -\frac{14}{3\sqrt{29}}; -\frac{1}{3\sqrt{29}})$]

4. **B** Legyen $\underline{a}(5; 6; -8)$, $\underline{b}(-2; 3; -1)$, $\underline{c}(-3; 4; -2)$, $\underline{d}(1; 2; -2)$.

(a) $\langle \underline{a}, \underline{d} \rangle$ [33]

(b) $\langle \underline{b}, 4\underline{c} \rangle$ [80]

(c) $\langle 3\underline{a}, \underline{d} + \underline{b} \rangle$ [147]

(d) $\langle 2\underline{d} - \underline{c} + \underline{a}, 2\underline{a} + 4\underline{b} \rangle$ [364]

5. **B** Legyen $\underline{a}(1; 2; 3)$, $\underline{b}(-2; -2; -2)$, $\underline{c}(4; 2; -3)$, $\underline{d}(5; 4; -7)$.

(a) Mekkora szöget zárnak be az \underline{a} és \underline{d} vektorok? [103, 03°]

(b) Mekkora szöget zárnak be a $\underline{b} + \underline{a}$ és \underline{c} vektorok? [156, 79°]

(c) Mekkora szöget zárnak be az $2\underline{a} - \underline{c}$ és $-\underline{b}$ vektorok? [56, 58°]

(d) Mekkora szöget zárnak be a $2\underline{a} - 3\underline{d}$ és $-\underline{c} + 3\underline{b}$ vektorok? [84, 64°]

6. **B** Legyen $\underline{a}(2; -4; 3)$, $\underline{b}(2; 1; -2)$, $\underline{c}(3; -3; 2)$, $\underline{d}(-1; -4; x)$, $\underline{e}(2; x; -3)$.

- (a) Milyen x érték esetén lesz a \underline{d} vektor merőleges az \underline{a} vektorra? $[x = -\frac{14}{3}]$
 (b) Milyen x érték esetén lesz az \underline{e} vektor merőleges az $-2\underline{b} + \underline{c}$ vektorra? $[x = -4]$
 (c) Milyen x értékek esetén fognak a \underline{d} és \underline{b} vektorok hegyesszöget bezárni? $[x < -3]$
 (d) Milyen x értékek esetén fognak az \underline{e} és $3\underline{a} - \underline{b}$ vektorok hegyesszöget bezárni? $[x < -\frac{25}{13}]$
 (e) Milyen x értékek esetén fognak az \underline{e} és \underline{c} vektorok tompaszöget bezárni? $[x > 0]$
 (f) Milyen x értékek esetén fognak a \underline{d} és $2\underline{b} + 3\underline{c}$ vektorok tompaszöget bezárni? $[x < -\frac{15}{2}]$

7. **B** Legyen $\underline{a}(-3; 0; 4)$, $\underline{b}(5; -4; 7)$, $\underline{c}(-2; -4; 4)$, $\underline{d}(6; -2; -1)$.

- (a) Bontsa fel az \underline{a} vektort a \underline{c} vektorral párhuzamos és merőleges összetevőkre!
 $[\underline{a}_p(-\frac{11}{9}; -\frac{22}{9}; \frac{22}{9}), \underline{a}_m(-\frac{16}{9}; \frac{22}{9}; \frac{14}{9})]$
 (b) Bontsa fel a \underline{b} vektort a \underline{d} vektorral párhuzamos és merőleges összetevőkre!
 $[\underline{b}_p(\frac{186}{41}; -\frac{62}{41}; -\frac{31}{41}), \underline{b}_m(\frac{19}{41}; -\frac{102}{41}; \frac{318}{41})]$
 (c) Bontsa fel a \underline{c} vektort az \underline{a} vektorral párhuzamos és merőleges összetevőkre!
 $[\underline{c}_p(-\frac{66}{25}; 0; \frac{88}{25}), \underline{c}_m(\frac{16}{25}; -4; \frac{12}{25})]$
 (d) Bontsa fel a \underline{d} vektort a \underline{c} vektorral párhuzamos és merőleges összetevőkre!
 $[\underline{d}_p(\frac{4}{9}; \frac{8}{9}; -\frac{8}{9}), \underline{d}_m(\frac{50}{9}; -\frac{26}{9}; -\frac{1}{9})]$

8. **B** Az $ABCD$ paralelogramma két csúcsa $A(3; -1; 4)$ és $B(-2; 2; 1)$. Az átlók metszéspontja $K(2; 1; 3)$. Határozza meg a másik két csúcs koordinátáit! $[C(1; 3; 2), D(6; 0; 5)]$

9. **B** Az $ABCD$ paralelogramma két csúcsa $B(2; -1; 5)$ és $C(8; 3; -4)$. Az átlók metszéspontja $K(5; 2; 2)$. Határozza meg a másik két csúcs koordinátáit! $[A(2; 1; 8), D(8; 5; -1)]$

10. **B** Az $ABCD$ paralelogramma három csúcsa $A(4; 5; 4)$, $B(6; 4; 5)$ és $C(7; -2; 7)$. Határozza meg az átlók metszéspontját és a negyedik csúcs koordinátáit! $[K(5, 5; 1, 5; 5, 5), D(5; -1; 6)]$

11. **B** Az $ABCD$ paralelogramma három csúcsa $B(-3; 3; -4)$, $C(-6; -3; 1)$ és $D(5; -5; -8)$. Határozza meg az átlók metszéspontját és a negyedik csúcs koordinátáit! $[K(1; -1; -6), A(8; 1; -13)]$

12. **B** Az ABC háromszög egyik csúcsa $A(5; -2; 3)$. Az AB oldal felezőpontja $F(1; 4; 1)$. Az AC oldal felezőpontja $G(7; 1; 4)$. Határozza meg a másik két csúcs koordinátáit! $[B(-3; 10; -1), C(9; 4; 5)]$

13. **B** A KLM háromszög egyik csúcsa $M(5; -2; 3)$. A KL oldal felezőpontja $X(2; 3; -2)$. Az LM oldal felezőpontja $Y(6; 4; 5)$. Határozza meg a másik két csúcs koordinátáit! $[L(7; 10; 7), K(-3; -4; -11)]$

14. **B** Határozza meg az $A(-7; 2; 8)$ pont $B(6; 4; 5)$ pontra vonatkozó tükörképének koordinátáit és az AB szakasz felezőpontjának koordinátáit! $[A'(19; 6; 2), F(-0, 5; 3; 6, 5)]$

15. **B** Határozza meg az $X(5; -2; 6)$ pont $Y(-2; 6; 3)$ pontra vonatkozó tükörképének koordinátáit és az XY szakasz felezőpontjának koordinátáit! $[X'(-9; 14; 0), F(1, 5; 2; 4, 5)]$
16. Egy szabályos hatszög középpontja $K(2; -3; 5)$, két szomszédos csúcsa $A(1; -3; 6), B(1; -2; 5)$. Határozza meg másik négy csúcs koordinátáit! $[D(3; -3; 4), E(3; -4; 5), C(2; -2; 4), F(2; -4; 6)]$
17. **B** Az ABC szabályos háromszög oldala 2 egység hosszú. Mennyi $\langle \overrightarrow{AB}, \overrightarrow{AC} \rangle$? $[2]$
18. **B** Az EFG szabályos háromszög oldala 5 egység hosszú. Mennyi $\langle \overrightarrow{EF}, \overrightarrow{EG} \rangle$? $[12, 5]$
19. Adott az ABC háromszög három csúcsa $A(1; 0; -1), B(1; -1; 3)$ és $C(-7; 2; 1)$. Határozza meg a háromszög területét és a B csúcsonál lévő szöget! $[k = 21, 38; 72, 3^\circ]$
20. Adott az EFG háromszög három csúcsa $E(2; 3; 4), F(-2; 3; 1)$ és $G(3; -4; 2)$. Határozza meg a háromszög területét és a E csúcsonál lévő szöget! $[k = 21, 01; 86, 88^\circ]$
21. Döntse el, hogy az $\underline{a}(-2; 3; 6)$, $\underline{b}(6; -2; 3)$ és $\underline{c}(3; 6; -2)$ vektorok kockát feszítenek-e ki! Válaszát indokolja! $[igen]$
22. Döntse el, hogy az $\underline{a}(-8; 2; 4)$, $\underline{b}(2; -4; 8)$ és $\underline{c}(-4; 8; -2)$ vektorok kockát feszítenek-e ki! Válaszát indokolja! $[nem]$
23. **B** Határozza meg az AB szakasz A ponthoz közelebbi harmadolópontját! $A(2; -1; 4), B(2; 2; 10)$ $[(2; 0; 6)]$
24. **B** Határozza meg az BC szakasz C ponthoz közelebbi harmadolópontját! $B(7; 2; -5), C(-4; 3; -2)$ $\left[\left(-\frac{1}{3}; \frac{8}{3}; -3 \right) \right]$
25. **B** Határozza meg annak a X pontnak a koordinátáit, amely az AB szakaszt $AX : XB = 3 : 2$ arányban osztja! $A(-3; 1; -6), B(4; 2; 6)$ $\left[\left(\frac{6}{5}; \frac{8}{5}; \frac{6}{5} \right) \right]$
26. **B** Legyen $\underline{a}(-2; 7; -8), \underline{b}(2; -3; 5), \underline{c}(-3; 5; -4), \underline{d}(1; 7; -9)$.
- (a) $\underline{a} \times \underline{d}$ $[(-7; -26; -21)]$
- (b) $(\underline{b} - 3\underline{c}) \times \underline{a}$ $[(25; 54; 41)]$
- (c) $(2\underline{d} + \underline{a}) \times (\underline{c} - 3\underline{b})$ $[(-35; 234; 189)]$
- (d) \underline{abc} $[-31]$
- (e) \underline{bda} $[41]$
- (f) \underline{dcc} $[0]$
27. **B** Igazolja, hogy az $\underline{a}(-1; -4; 3), \underline{b}(-2; 3; 6)$ vektorok paralelogrammát feszítenek ki és számítsa ki a paralelogramma területét! $[T = 34, 79]$
28. **B** Igazolja, hogy az $\underline{c}(-2; 6; 3), \underline{d}(4; -3; -1)$ vektorok paralelogrammát feszítenek ki és számítsa ki a paralelogramma területét! $[T = 20, 8]$

29. **B** Igazolja, hogy az $A(5; -3; -4)$, $B(5; 7; -9)$, $C(3; -7; 2)$ pontok háromszöget alkotnak és számítsa ki a háromszög területét! [$T = 22, 91$]
30. **B** Igazolja, hogy az $E(-2; 3; 3)$, $F(-7; 6; -4)$, $G(6; -5; -4)$ pontok háromszöget alkotnak és számítsa ki a háromszög területét! [$T = 60, 14$]
31. Vegyük az $A(-3; 3; -4)$, $B(-2; 3; -4)$, $C(1; -7; 8)$ pontokat. Legyen G az AC oldal felezőpontja. Számítsa ki az ABG háromszög területét és kerületét! [$T = 3, 91; k = 16, 93$]
32. Vegyük az $A(-2; 5; 1)$, $B(-2; -1; -4)$, $C(1; -4; 5)$ pontokat. Legyen X pont az AB szakasz A ponthoz közelebbi harmadolópontja. Számítsa ki az AXC háromszög területét és kerületét! [$T = 12, 15; k = 22, 39$]
33. Igazolja, hogy az $A(2; -3; 4)$, $B(5; 3; -4)$, $C(6; -7; 2)$ pontok háromszöget alkotnak. Számítsa ki a háromszög területét, a B csúcshoz tartozó magasságot és a C csúcsnál lévő szöveget! [$T = 31, 26; m_b = 10, 42; 62, 89^\circ$]
34. Igazolja, hogy az $K(2; -3; -4)$, $L(1; 3; -4)$, $M(6; -5; -2)$ pontok háromszöget alkotnak. Számítsa ki a háromszög területét, a K csúcshoz tartozó magasságot és a L csúcsnál lévő szöveget! [$T = 12, 57; m_k = 2, 61; 25, 38^\circ$]
35. **B** Egysíkúak-e az $\underline{a}(-1; 3; -2)$, $\underline{b}(3; 4; -3)$, $\underline{c}(-2; 1; 3)$ vektorok? [*nem*]
36. **B** Egysíkúak-e az $\underline{a}(1; 2; -3)$, $\underline{b}(-3; 2; 4)$, $\underline{c}(-3; 10; -1)$ vektorok? [*igen*]
37. **B** Igazolja, hogy az $\underline{a}(-2; -3; 4)$, $\underline{b}(-5; -3; 2)$, $\underline{c}(4; -6; -2)$ vektorok paralelepipedont feszítenek ki és számítsa ki a paralelepipedon térfogatát! [$V = 138$]
38. **B** Igazolja, hogy az $\underline{a}(2; -6; 8)$, $\underline{b}(-2; -1; -4)$, $\underline{c}(2; -5; 3)$ vektorok paralelepipedont feszítenek ki és számítsa ki a paralelepipedon térfogatát! [$V = 62$]
39. **B** Vegyük az $A(-3; 5; 4)$, $B(2; -3; -4)$, $C(1; -7; 5)$, $D(6; -4; 3)$ pontokat. Igazolja, hogy ezek a pontok tetraédert határoznak meg és számítsa ki a tetraéder térfogatát! [$V = 95, 83$]
40. **B** Vegyük az $A(6; 5; 4)$, $B(-5; 4; 3)$, $C(1; 4; -2)$, $D(6; -4; 2)$ pontokat. Igazolja, hogy ezek a pontok tetraédert határoznak meg és számítsa ki a tetraéder térfogatát! [$V = 89, 5$]
41. Vegyük az $A(-3; -4; 4)$, $B(5; -6; 3)$, $C(1; -7; -2)$, $D(7; 8; -1)$ pontokat. Igazolja, hogy ezek a pontok tetraédert határoznak meg, számítsa ki a tetraéder térfogatát és a D csúcshoz tartozó magasság hosszát! [$V = 116, 33; m = 14, 64$]
42. Egy tetraéder csúcsai $A(-2; 6; 5)$, $B(3; -3; 2)$, $C(3; -6; 2)$, $D(-1; 2; -3)$. Számítsa ki a tetraéder térfogatát és a D csúcshoz tartozó magasság hosszát! [$V = 18, 5; m = 6, 35$]
43. Az $ABCD$ tetraéder térfogata 5 egység. Adottak az $A(2; 1; -1)$, $B(3; 0; 1)$, $C(2; 1; 3)$ csúcsok. Határozza meg a D csúcs koordinátáit, ha tudjuk, hogy az y tengelyen található!
[$(0; \frac{21}{2}; 0)$, $(0; -\frac{9}{2}; 0)$]
44. Egy kockát kifeszítő három vektor közül kettő $\underline{a}(6; 2; -3)$, $\underline{b}(-3; 6; -2)$. Határozza meg a harmadik vektort!
[$\underline{c}(2; 3; 6)$, $-\underline{c}(-2; -3; -6)$]

45. Adott: $A(2; -5; 3), B(9; -4; 8), C(4; -1; -1)e : x = 1 + 4t, y = 2 - 3t, z = 6 + t, t \in R,$
 $f : \frac{3x+6}{9} = \frac{-y+2}{2} = z + 2.$
- (a) **B** Írja fel az A és B pontok által meghatározott egyenes paraméteres és paraméter nélküli egyenletrendszerét!
 [A pontra felírva: $x = 2 + 7t, y = -5 + t, z = 3 + 5t, t \in R; \frac{x-2}{7} = \frac{y+5}{1} = \frac{z-3}{5}$]
- (b) **B** Döntse el, hogy az A és B pontok illeszkednek-e az e egyenesre! [A – nem, B – igen]
- (c) **B** Írja fel az A pontra illeszkedő f egyenessel párhuzamos egyenes paraméteres és paraméter nélküli egyenletrendszerét!
 [$x = 2 + 3t, y = -5 - 2t, z = 3 + t, t \in R; \frac{x-2}{3} = \frac{y+5}{-2} = \frac{z-3}{1}$]
- (d) Írja fel a C pontra illeszkedő e és f egyenesre merőleges egyenes paraméteres egyenletrendszerét!
 [$x = 4 - t, y = -1 - t, z = -1 + t, t \in R$]
- (e) Írja fel az ABC háromszög síkjára merőlegess B ponton áthaladó egyenes paraméteres egyenletrendszerét!
 [$x = 9 - 24t, y = -4 + 38t, z = 8 + 26t, t \in R$]
- (f) **B** Írja fel az A pontra illeszkedő e egyenesre merőleges sík egyenletét! [$4x - 3y + z - 26 = 0$]
- (g) **B** Írja fel az A, B és C pontok által meghatározott sík egyenletét! [$-24x + 38y + 26z + 160 = 0$]
- (h) **B** Határozza meg az e és f egyenesek helyzetét a térben! Ha van metszéspont, adja meg a koordinátáit! [kitérőek]
46. Írja fel az $A(3; -1; 2), B(4; 1; -7), C(8; -1; 5)$ csúcspontú háromszög A csúcsából induló súlyvonalának paraméter nélküli egyenletrendszerét!
 [A pontra felírva : $\frac{x-3}{3} = \frac{y+1}{1} = \frac{z-2}{-3}$]
47. **B** Írja fel az $A(4; 5; -4)$ pontra illeszkedő x tengellyel párhuzamos egyenes paraméteres egyenletrendszerét!
 [$x = 4 + t, y = 5, z = -4, t \in R$ (x tengely irányvektora (1;0;0))]
48. **B** Írja fel az $A(2; 5; -4)$ pontra illeszkedő xy síkra merőleges egyenes paraméteres egyenletrendszerét!
 [$x = 2, y = 5, z = -4 + t, t \in R$ (xy sík egyenlete $z=0$, normálvektora (0;0;1))]
49. **B** Írja fel az CD szakasz felezőpontján átmenő z tengellyel párhuzamos egyenes paraméteres egyenletrendszerét, ha $C(2; -8; 4), D(-6; -4; 2)$!
 [$x = -2, y = -6, z = 3 + t, t \in R$ (z tengely irányvektora (0;0;1))]
50. Adott: $A(3; -4; -2), B(4; 5; -7), C(-2; 2; 1), e : x = -2 + 3t, y = 1 - 2t, z = 2 + t, t \in R,$
 $S : x - 3z = -4y + 4.$
- (a) Határozza meg annak a síknak az egyenletét, amely átmegy az origón, párhuzamos az e egyenessel és merőleges az S síkra! [$2x + 10y + 14z = 0$]

- (b) Határozza meg az A pont és az e egyenes síkjának egyenletét! $[13x + 17y - 5z + 19 = 0]$
- (c) **B** Határozza meg az e egyenes és az xz sík metszéspontját!
 $[(-0, 5; 0; 2, 5) \quad (xz \text{ sík egyenlete: } y=0)]$
- (d) **B** Határozza meg annak a síknak az egyenletét, amely illeszkedik a B pontra és merőleges az e egyenesre!
 $[3x - 2y + z + 5 = 0]$
- (e) **B** Határozza meg annak a síknak az egyenletét, amely átmegy az C ponton és párhuzamos az x és y tengellyel!
 $[z - 1 = 0]$
- (f) **B** Határozza meg annak az egyenesnek a paraméteres egyenletét, amely átmegy a B ponton és merőleges az y és z tengelyekre!
 $[x = 4 + t, y = 5, z = -7, t \in R]$
- (g) **B** Határozza meg annak a A pontra illeszkedő síknak az egyenletét, amely merőleges az y tengelyre!
 $[y + 4 = 0 \quad (y \text{ tengely irányvektora } (0;1;0))]$
51. Adja meg annak az S síknak az egyenletét, amely átmegy a $P(2; 3; 5)$ ponton és illeszkedik az y tengelyre!
 $[S: -5x+2z=0 \quad (y \text{ tengely irányvektora } (0;1;0))]$
52. **B** Írja fel az $B(2; -2; 1)$ pontra illeszkedő zy síkra merőleges egyenes paraméteres egyenletrendszerét!
 $[x = 2 + t, y = -2, z = 1, t \in R \quad (yz \text{ sík egyenlete } x=0, \text{ normálvektora } (1;0;0))]$
53. Adja meg annak az S síknak az egyenletét, amely átmegy a $C(0; 4; -7)$ ponton és merőleges az $S_1 : 2x - y - z = 1$ és $S_2 : 4x - y + z = 12$ síkokra!
 $[S : x + 3y - z = 19]$
54. Az ABC háromszög csúcsai $A(4; -1; 6), B(2; -4; 3), C(2; -1; -3)$.
- (a) **B** Határozza meg az ABC háromszög síkjának egyenletét!
 $[27x - 12y - 6z - 84 = 0]$
- (b) **B** Határozza meg annak a síknak az egyenletét, amely illeszkedik a C pontra és merőleges az AB oldalra!
 $[-2x - 3y - 3z - 8 = 0]$
- (c) **B** Írja fel a A pontra illeszkedő BC oldallal párhuzamos egyenes paraméter nélküli egyenletét!
 $[\frac{y+1}{3} = \frac{z-6}{-6}, x = 4]$
55. Adott: $D(-4; -2; 3), E(2; -5; 1), F(3; 2; -5), m : x = 3 - 2t, y = 4, z = -1 + 3t, t \in R,$
 $n : \frac{x+5}{3} = \frac{y-4}{2} = \frac{z+1}{5}, S_1 : x + 5y = z + 3, S_2 : 4x - 3y + z + 5 = 0.$
- (a) **B** Döntse el, hogy az E pont illeszkedik-e az S_1 síkra!
 $[nem]$
- (b) **B** Írja fel a E pontra illeszkedő m egyenessel párhuzamos egyenes paraméteres és paraméter nélküli egyenletrendszerét!
 $[x = 2 - 2t, y = -5, z = 1 + 3t, t \in R; \frac{x-2}{-2} = \frac{z-1}{3}, y = -5]$
- (c) **B** Írja fel az D pontra illeszkedő S_1 síkkal párhuzamos sík egyenletét!
 $[x + 5y - z + 17 = 0]$
- (d) **B** Írja fel az F pontra illeszkedő yz síkkal párhuzamos sík egyenletét!
 $[x - 3 = 0, (az \text{ } yz \text{ sík egyenlete: } x=0, \text{ normálvektora } (1;0;0))]$

- (e) **B** Írja fel az DEF háromszög síkjának az egyenletét! $[32x + 34y + 45z + 61 = 0]$
- (f) Írja fel az F pont és az n egyenes síkjának az egyenletét! $[-x - 26y + 11z + 110 = 0]$
- (g) **B** Határozza meg az n egyenes és az S_1 sík helyzetét a térben! Ha van dőféspont, adja meg a koordinátáit! $[\text{az egyenes dőfi a síkot, dőféspont } (-\frac{79}{8}; \frac{3}{4}; -\frac{73}{8})]$
- (h) **B** Határozza meg az m egyenes és az S_2 sík helyzetét a térben! Ha van dőféspont, adja meg a koordinátáit! $[\text{az egyenes dőfi a síkot, dőféspont } (\frac{7}{5}; 4; \frac{7}{5})]$
- (i) Határozza meg az S_1 és S_2 síkok metszésvonalát!
 $[x = -\frac{2}{5} + 2t, y = -5t, z = -\frac{17}{5} - 23t, t \in R, \text{ ahol } (-\frac{2}{5}; 0; -\frac{17}{5}) \text{ a metszésvonal tetszőleges pontja}]$
56. **B** Határozza meg az alábbi egyenesek $e : x = 3 + 2t, y = 1 + t, z = 2 - t, t \in R$ és $f : x = -1 + t, y = 2 + 2t, z = 1 - 2t, t \in R$ helyzetét a térben! Ha van metszéspont, adja meg a koordinátáit! $[\text{az egyenesek metszik egymást, metszéspont } (-3; -2; 5)]$
57. **B** Határozza meg az alábbi egyenesek $a : x = 6 + 2t, y = -3 + t, z = 9 + 5t, t \in R$ és $f : \frac{x-3}{5} = \frac{2y+8}{4} = \frac{-y+3}{-6}$ helyzetét a térben! Ha van metszéspont, adja meg a koordinátáit! $[\text{az egyenesek kitérők}]$
58. **B** Határozza meg az $m : x = 8 + 3t, y = -3 - 2t, z = 10 + 5t, t \in R$ egyenes és az $S : 4x - 3y + z = 5$ sík helyzetét a térben! Ha van dőféspont, adja meg a koordinátáit! $[\text{az egyenes dőfi a síkot, dőféspont } (2; 1; 0)]$
59. **B** Határozza meg az $f : x = -5 + 2t, y = -2 + 2t, z = -3t, t \in R$ egyenes és az xy sík helyzetét a térben! Ha van dőféspont, adja meg a koordinátáit! $[\text{az egyenes dőfi a síkot, dőféspont } (-5; -2; 0)]$
60. **B** Határozza meg az $n : x = 1 - 3t, y = 5 + t, z = 3 + 3t, t \in R$ egyenes és $S : 2x - 3y + 3z = 5$ sík helyzetét a térben! Ha van dőféspont, adja meg a koordinátáit! $[\text{az egyenes párhuzamos a síkkal}]$
61. Határozza meg az $S_1 : x + 3y = -z + 7$ és $S_2 : 2x + y - 3z = 4$ síkok kölcsönös helyzetét! Ha a síkok nem párhuzamosak, határozza meg a két sík metszésvonalát! $[x = 1 - 2t, y = 2 + t, z = -t, t \in R]$
62. Határozza meg az $S_1 : 2x + 3z = y + 6$ és xz síkok kölcsönös helyzetét! Ha a síkok nem párhuzamosak, határozza meg a két sík metszésvonalát! $[xz \text{ sík egyenlete: } y = 0; t \in R]$
63. **B** Határozza meg az $A(4; -2, 1)$ pont és az $f : x = 3 - 2t, y = 4 + t, y = 6, t \in R$ egyenes távolságát! $[7, 01]$
64. **B** Milyen messze van a $D(-3; 2, 5)$ pont az $S : 2x - y = -z - 6$ síktól? $[1, 22]$
65. Az $ABCD$ csúcspontú tetraéderben határozza meg az AB és CD oldalegyenesek távolságát!
 $A(0; 0; 0), B(1; 0; 0), C(1; 2; 0), D(0; 1; 2)$ $[1, 79]$

66. **B** Határozza meg az $e : x = 3 + 2t, y = 1 - 4t, z = 5t, t \in R$ és az $f : \frac{8-2x}{6} = \frac{y+2}{4} = z - 3$ egyenesek hajlásszögét! [60, 20°]
67. Határozza meg mekkora szöget zár be az $ABCD$ tetraéderben az AD oldal egyenese az ABC oldallap síkjával! $A(2; -2; 2), B(5; -2; -1), C(5; 2; -1), D(5; -2; 2)$ [45°]
68. **B** Határozza meg az $S_1 : x - 7y = 2$ és $S_2 : -3y = -4x + 5z + 6$ síkok hajlásszögét! [60°]
69. Határozza meg az $ABCD$ paralelogramma az AB oldalához tartozó magasságát! $A(1; 3; 7), B(3; 6; 1), C(4; -2; -9), D(2; -5; -3)$ [11, 64]
70. Adott: $A(4; -2; 1), B(1; -2; 1), e : x = 3 - 2t, y = 4 + t, z = 4 - t, t \in R,$
 $f : \frac{x-4}{-2} = \frac{2-2y}{-2} = \frac{-1+z}{-1}, S_1 : x + 3z = y - 5, S_2 : -2x + 2y = 6z + 18.$
- (a) **B** Határozza meg az A és B pontok távolságát! [3]
- (b) **B** Határozza meg az A pont és az e egyenes távolságát! [6, 46]
- (c) **B** Határozza meg a B pont és az f egyenes távolságát! [4, 06]
- (d) **B** Határozza meg az e pont és f egyenesek távolságát! [4, 28]
- (e) **B** Határozza meg a B pont távolságát az S_1 síktól! [3, 32]
- (f) **B** Határozza meg az A pont távolságát az S_2 síktól! [5, 43]
- (g) **B** Határozza meg az S_1 és S_2 síkok kölcsönös helyzetét! Ha a síkok párhuzamosak, határozza meg a távolságát! [1, 21]
71. **B** Határozza meg az $S_1 : x + 3z = y - 5$ sík és az $m : x = -1 + t, y = 2 - 2t, z = -t, t \in R$ egyenes távolságát! [0, 6]
72. Határozza meg az $a : x = 1 + t, y = -t, z = 2, t \in R$ és $b : x = 4 - 2u, y = 1 + u, z = 3 - u, u \in R$ egyenesek távolságát! [$\sqrt{3}$]
73. Határozza meg az $e : x = 2 + t, y = 5 - t, z = 2 + 3t, t \in R$ és $f : x = 7 - 2u, y = 2 + u, z = 1 + 2u, u \in R$ egyenesek távolságát! [az egyenesek metszik egymást]
74. **B** Határozza meg az $e : x = 4, y = 4t - 1, z = 3 + 2t, t \in R$ és az y tengely hajlásszögét! [26, 56°]
75. Határozza meg a paralelogramma átlóinak hajlásszögét! $A(2; 3; -1), B(5; 4; 3), C(2; -1; 6), D(-1; -3; 2)$ [73, 69°]
76. **B** Határozza meg az $S : z = 5x + 4y$ és az xz sík hajlásszögét! [51, 88°]
77. **B** Határozza meg az $S : x + y + z = 1$ sík és az $p : x = -y = \frac{z}{2}$ egyenes hajlásszögét! [28, 12°]
78. Az $ABCD$ tetraéderben határozza meg az ABC és a BCD oldallapok által bezárt szöget! $A(4; 7; 6), B(0; 1; -2), C(-1; 5; 3), D(4; -5; 2)$ [58, 52°]

79. Adott az $ABCD$ tetraéder: $A(4; 6; 2)$, $B(0; -1; -2)$, $C(-1; 6; 3)$, $D(5; -4; 3)$.

- (a) Írja fel az B pontra illeszkedő ACD síkkal párhuzamos sík egyenletét! $[5x + 3y + 25z + 50 = 0]$
- (b) Írja fel annak az egyenesnek az egyenletét, amely párhuzamos a CD egyenessel és áthalad az AB oldal felezőpontján! $[x = 2 + 6t, y = 2, 5 - 10t, z = 0, t \in R]$
- (c) Határozza meg az BC és AD oldalegyenesek távolságát! $[4, 91]$
- (d) Határozza meg a C pont távolságát az ABD síktól! $[4, 24]$
- (e) Határozza meg AC oldal egyenese az ABD oldallap síkjának hajlásszögét! $[56, 32^\circ]$
- (f) Határozza meg az ACD és a BCD oldallapok által bezárt szöget! $[74, 37^\circ]$

MÁTRIXOK

1. Legyen $A = \begin{pmatrix} 3 & -1 & 2 \\ -2 & -8 & 7 \\ 1 & 5 & -4 \end{pmatrix}$, $B = \begin{pmatrix} 4 & -7 \\ 5 & -4 \\ -1 & 6 \end{pmatrix}$, $C = \begin{pmatrix} 5 & -7 & 3 \\ -2 & 12 & -9 \end{pmatrix}$, $D = \begin{pmatrix} -2 & 4 \\ 5 & -3 \end{pmatrix}$.

(a) **B** $3B - 2C^T$ $\left[\begin{pmatrix} 2 & -17 \\ 29 & -36 \\ -9 & 36 \end{pmatrix} \right]$

(b) **B** $4A - 6B$ [nem lehet]

(c) **B** AB $\left[\begin{pmatrix} 5 & -5 \\ -55 & 88 \\ 33 & -51 \end{pmatrix} \right]$

(d) **B** BC $\left[\begin{pmatrix} 34 & -112 & 75 \\ 33 & -83 & 51 \\ -17 & 79 & -57 \end{pmatrix} \right]$

(e) **B** A^2 $\left[\begin{pmatrix} 13 & 15 & -9 \\ 17 & 101 & -88 \\ -11 & -61 & 53 \end{pmatrix} \right]$

(f) **B** AC [nem lehet]

(g) **B** $D^2 - D$ $\left[\begin{pmatrix} 26 & -24 \\ -30 & 32 \end{pmatrix} \right]$

(h) **B** $2B^T - 3C$ $\left[\begin{pmatrix} -7 & 31 & -11 \\ -8 & -44 & 39 \end{pmatrix} \right]$

(i) **B** $(D + D^T)^2$ $\left[\begin{pmatrix} 97 & -90 \\ -90 & 117 \end{pmatrix} \right]$

(i) **B** $\det(D)$ [-14]

(j) **B** $\det(A)$ [-12]

2. Legyen $A = \begin{pmatrix} 2 & -7 & -5 \\ -2 & 1 & 4 \\ 3 & 8 & 9 \end{pmatrix}$, $B = \begin{pmatrix} 5 & -4 & 3 \\ -1 & -2 & 2 \\ 4 & 7 & 1 \end{pmatrix}$, $C = \begin{pmatrix} 4 \\ -5 \\ 7 \end{pmatrix}$, $D = \begin{pmatrix} -2 & 8 & -3 \end{pmatrix}$,
 $E = \begin{pmatrix} 4 & -4 \\ 1 & 2 \end{pmatrix}$, $F = \begin{pmatrix} -5 & 3 \\ -1 & 6 \end{pmatrix}$.

(a) **B** CD $\left[\begin{pmatrix} -8 & 32 & -12 \\ 10 & -40 & 15 \\ -14 & 56 & -21 \end{pmatrix} \right]$

(b) **B** DC $\left[\begin{pmatrix} -69 \end{pmatrix} \right]$

- (c) $(2A - 3B^T)^T$ $\left[\begin{pmatrix} -11 & 8 & -3 \\ -11 & 8 & 10 \\ -22 & -13 & 15 \end{pmatrix} \right]$
- (d) **B** $A^T C$ $\left[\begin{pmatrix} 39 \\ 23 \\ 23 \end{pmatrix} \right]$
- (e) **B** $(A + B)D$ [nem lehet]
- (f) **B** $(2A - B)D^T$ $\left[\begin{pmatrix} -39 \\ 20 \\ 17 \end{pmatrix} \right]$
- (g) **B** $E^2 - 4F^T$ $\left[\begin{pmatrix} 32 & -20 \\ -6 & -24 \end{pmatrix} \right]$
- (h) **B** $(E^T - F)^2$ $\left[\begin{pmatrix} 87 & -10 \\ -15 & 22 \end{pmatrix} \right]$
- (i) $B^2 D^T + C$ $\left[\begin{pmatrix} -36 \\ 176 \\ -292 \end{pmatrix} \right]$
- (j) **B** $\det(E^T + 2F)$ [-42]
- (k) $\det(2E - F^2)$ [439]
- (l) $\det(A^T + 2B)$ [-5715]
3. **B** Legyen $G = \begin{pmatrix} 2 & 5 \\ 0 & 4 \\ 3 & 7 \end{pmatrix}, H = \begin{pmatrix} -4 & 2 \\ 7 & -2 \\ 9 & 3 \end{pmatrix}$. Határozza meg azt az X mátrixot, amelyre $2G + X = 5H!$ $\left[\begin{pmatrix} -24 & 0 \\ 35 & -18 \\ 39 & 1 \end{pmatrix} \right]$
4. **B** Legyen $M = \begin{pmatrix} -4 & 14 & -8 \\ 11 & -2 & 5 \end{pmatrix}, N = \begin{pmatrix} -9 & 33 & 7 \\ 24 & -1 & -6 \end{pmatrix}$. Határozza meg azt az X mátrixot, amelyre $3N + X = -2M!$ $\left[\begin{pmatrix} 35 & -127 & -5 \\ -94 & 7 & 8 \end{pmatrix} \right]$
5. **B** Oldja meg a $\begin{vmatrix} x & 2 \\ -3 & x \end{vmatrix} = 10$ egyenletet! [-2; 2]
6. **B** Oldja meg a $\begin{vmatrix} 1 & x \\ x & 2 \end{vmatrix} = 3x - 2$ egyenletet! [-4; 1]

7. **B** Hogy kell megválasztani az x számot, hogy a $\begin{vmatrix} x & 3 & -1 \\ -2 & 4 & x \\ -1 & 2 & 1 \end{vmatrix}$ determináns értéke 0 legyen?
 $\left[-\frac{3}{2}; 2\right]$

8. **B** Hogy kell megválasztani az x számot, hogy a $\begin{vmatrix} 1 & 2 & x \\ 2 & 1 & 3 \\ x & 1 & 3 \end{vmatrix}$ determináns értéke 0 legyen? $[2; 6]$

9. **B** Oldja meg a $\begin{vmatrix} x & 3 & x \\ 0 & 2 & 4 \\ 3 & 1 & 3 \end{vmatrix} = 2x$ egyenletet! $[6]$

10. **B** Oldja meg a $\begin{vmatrix} x & 3 & -1 \\ -2 & 4 & x \\ -1 & 2 & 1 \end{vmatrix} = -3x$ egyenletet! $[-1; 3]$

11. Számítsa ki az alábbi mátrixok determinánsát!

(a) $A = \begin{pmatrix} 0 & -5 & 3 & 7 \\ -3 & 4 & 2 & 1 \\ 1 & 0 & -3 & 2 \\ 6 & -2 & -1 & 0 \end{pmatrix}$ $[655]$

(b) $B = \begin{pmatrix} -3 & 2 & 1 & -4 \\ 4 & 5 & 2 & -2 \\ 3 & -3 & -1 & 10 \\ 1 & -2 & 6 & 8 \end{pmatrix}$ $[748]$

12. **B** Bizonyítsa be, hogy a $c_1(1; -2)$ és $c_2(4; 3)$ vektorok lineárisan függetlenek!
 [csak az $\alpha_1 = 0, \alpha_2 = 0$ triviális megoldás létezik, tehát lineárisan függetlenek]

13. **B** Vizsgálja meg, hogy az $x^2 + 3x^3 - 1; 2x^2 + 6; x$ függvények lineárisan függetlenek-e?
 [csak az $\alpha_1 = 0, \alpha_2 = 0, \alpha_3 = 0$ triviális megoldás létezik, tehát lineárisan függetlenek]

14. **B** Döntse el, hogy a $v_1(1; 2; -3), v_2(-2; 2; 5)$ és $v_3(8; -2; -21)$ vektorok lineárisan függetlenek-e!
 [$\alpha_1 = -2t, \alpha_2 = 3t, \alpha_3 = t$, tehát a vektorok lineárisan összefüggőek]

15. **B** Döntse el, hogy a $u_1 = \begin{pmatrix} 2 \\ -4 \\ 5 \end{pmatrix}, u_2 = \begin{pmatrix} 1 \\ -1 \\ 4 \end{pmatrix}$ és $u_3 = \begin{pmatrix} -1 \\ -1 \\ 5 \end{pmatrix}$ vektorok lineárisan függetlenek-e!
 [csak az $\alpha_1 = 0, \alpha_2 = 0, \alpha_3 = 0$ triviális megoldás létezik, tehát lineárisan függetlenek]

16. **B** Előállítható-e a c vektor az x, y vektorok lineáris kombinációjaként?

$x = \begin{pmatrix} 3 \\ -4 \end{pmatrix}, y = \begin{pmatrix} -1 \\ 5 \end{pmatrix}, c = \begin{pmatrix} -9 \\ 23 \end{pmatrix}$ $[-2x + 3y = c]$

17. **B** Előállítható-e az $x(-7; 5)$ vektor az $c(3; -2), d(6; -4)$ vektorok lineáris kombinációjaként?
[nem]

18. Előállítható-e a d vektor az a, b, c vektorok lineáris kombinációjaként?

$$a = \begin{pmatrix} 4 \\ -2 \\ 3 \end{pmatrix}, b = \begin{pmatrix} -1 \\ 2 \\ 7 \end{pmatrix}, c = \begin{pmatrix} 2 \\ -2 \\ 1 \end{pmatrix}, d = \begin{pmatrix} -1 \\ 4 \\ -6 \end{pmatrix} \quad [2a - b - 5c = d]$$

19. Előállítható-e a d vektor az a, b, c vektorok lineáris kombinációjaként?

$$a = (1; 2; -3), b = (-4; 2; 5), c = (1; -1; 7), d = (-7; 15; -23). \quad [4a + 2b - 3c = d]$$

20. Oldja meg az alábbi egyenletrendszert!

$$\begin{aligned} x + y + z &= 3 \\ 2x - y + z &= 2 \\ -x - y + z &= 1 \end{aligned} \quad [x = 1, y = 1, z = 1]$$

21. Oldja meg az alábbi egyenletrendszert!

$$\begin{aligned} x - y - z &= -1 \\ 3x + y - z &= 3 \\ x + 3y + z &= 5 \end{aligned} \quad \left[x = \frac{1}{2} + \frac{1}{2}t, y = \frac{3}{2} - \frac{1}{2}t, z = t, t \in R \right]$$

22. Oldja meg az alábbi egyenletrendszert!

$$\begin{aligned} 2x + 3y + 2z &= 7 \\ x + y + z &= 3 \\ 2x + 2y + 3z &= 6 \end{aligned} \quad [x = 2, y = 1, z = 0]$$

23. Oldja meg az alábbi egyenletrendszert!

$$\begin{aligned} 7x - 2y + 3z &= 8 \\ x - y + z &= 1 \\ 4x + 6y - 4z &= 3 \end{aligned} \quad [\text{az egyenletrendszernek nincs megoldása}]$$

24. Oldja meg az alábbi egyenletrendszert!

$$\begin{aligned} 2x - y + 3z &= 4 \\ -3x + 2y - z &= 6 \\ -6x + 5y + 5z &= 36 \end{aligned} \quad [x = 14 - 5t, y = 24 - 7t, z = t, t \in R]$$

25. Oldja meg az alábbi egyenletrendszert!

$$\begin{aligned} x + 2y - z &= 2 \\ 2x + y &= 3 \\ -x + y + 2z &= 4 \end{aligned} \quad \left[x = \frac{7}{9}, y = \frac{13}{9}, z = \frac{5}{3} \right]$$

26. Oldja meg az alábbi egyenletrendszert!

$$\begin{aligned} x + y - 2z + 4v &= 4 \\ -x - 4y + z + 2v &= -2 \\ 2x - 3y + z - v &= -1 \\ 4x - y + z + v &= 5 \end{aligned} \quad [x = 1, y = 1, z = 1, v = 1]$$

27. Oldja meg az alábbi egyenletrendszert!

$$\begin{aligned} x - y - 3z + 4v &= 2 \\ 2x + y + z - 5v &= -7 \\ x + y + z + 2v &= 6 \\ 3x - 4y - 2z + v &= 7 \end{aligned} \quad [x = 1, y = -2, z = 3, v = 2]$$

28. Oldja meg az alábbi egyenletrendszert!

$$\begin{aligned} x_1 + 2x_2 + 4x_3 + 5x_4 &= -1 \\ 3x_1 + 2x_3 - x_4 &= 2 \\ -2x_1 + 3x_2 + x_3 &= 3 \\ -x_1 - x_2 - 5x_3 - 11x_4 &= 1 \end{aligned} \quad [\text{az egyenletrendszernek nincs megoldása}]$$

29. Oldja meg az alábbi egyenletrendszert!

$$\begin{aligned} 3x_1 - x_2 + 3x_3 + 4x_4 &= -20 \\ 2x_1 - 2x_3 + 3x_4 &= -2 \\ -2x_1 + x_2 + 2x_3 + 5x_4 &= -11 \\ 4x_1 + 3x_2 - 3x_4 &= 13 \end{aligned} \quad [x_1 = 0, 5; x_2 = 3; x_3 = -2, 5; x_4 = -2]$$

30. Oldja meg az alábbi egyenletrendszert!

$$\begin{aligned} x_1 + 2x_2 - x_4 &= -3 \\ 2x_1 + 3x_2 - x_3 + 4x_4 &= -1 \\ 2x_1 + x_2 - 2x_3 + 3x_4 &= 4 \\ -x_1 + x_3 + 2x_4 &= -2 \end{aligned} \quad [x_1 = -3 + 15t, 5; x_2 = -7t; x_3 = -5 + 13t; x_4 = t; t \in \mathbb{R}]$$

31. Oldja meg az alábbi egyenletrendszert!

$$\begin{aligned} x_1 + 4x_2 - 5x_3 + 3x_4 &= 19 \\ -2x_1 + 6x_2 - x_3 + 5x_4 &= 9, 5 \\ 3x_1 + 4x_2 - 3x_3 &= 21 \\ 2x_1 - 4x_3 + 3x_4 &= 5 \end{aligned} \quad [x_1 = 0, 5; x_2 = 3; x_3 = -2, 5; x_4 = -2]$$

32. Döntse el, hogy létezik-e inverze az alábbi mátrixoknak!

(a) **B** $A = \begin{pmatrix} 2 & -4 & 3 \\ 1 & 2 & -1 \\ 3 & 4 & -2 \end{pmatrix}$ [$\det(A) = -2 \neq 0$, létezik a mátrix inverze]

(b) **B** $B = \begin{pmatrix} 2 & 3 & -2 \\ 8 & 0 & 5 \\ 10 & 3 & 3 \end{pmatrix}$ [$\det(B) = 0$, nem létezik a mátrix inverze]

33. **B** Milyen x értékek esetén nincs inverze az $A = \begin{pmatrix} x & 1 & 2 \\ 3 & 0 & 4 \\ 1 & 2 & 3 \end{pmatrix}$ mátrixnak? [$x = \frac{7}{8}$]

34. **B** Milyen x értékek esetén van inverze az $A = \begin{pmatrix} 3 & 1 & x \\ 2 & 0 & 0 \\ 7 & 4 & 20 \end{pmatrix}$ mátrixnak? [$x \neq 5$]

35. Igazolja, hogy a mátrixnak létezik inverze és határozza meg az inverz mátrixot!

(a) **B** $A = \begin{pmatrix} 3 & 4 \\ 2 & 3 \end{pmatrix}$ $[\det(A) = 1 \neq 0, \text{létezik a mátrix inverze; } A^{-1} = \begin{pmatrix} 3 & -4 \\ -2 & 3 \end{pmatrix}]$

(b) **B** $B = \begin{pmatrix} 1 & 2 \\ -1 & 1 \end{pmatrix}$ $[\det(A) = 3 \neq 0, \text{létezik a mátrix inverze; } A^{-1} = \begin{pmatrix} \frac{1}{3} & -\frac{2}{3} \\ \frac{1}{3} & \frac{1}{3} \end{pmatrix}]$

(c) $C = \begin{pmatrix} 2 & 2 & -1 \\ -1 & -1 & 1 \\ 3 & 2 & -2 \end{pmatrix}$ $[\det(C) = 1 \neq 0, \text{létezik a mátrix inverze; } C^{-1} = \begin{pmatrix} 0 & 2 & 1 \\ 1 & -1 & -1 \\ 1 & 2 & 0 \end{pmatrix}]$

(d) $D = \begin{pmatrix} 2 & 0 & -1 \\ 0 & 1 & 2 \\ 2 & 1 & -2 \end{pmatrix}$ $[\det(D) = -6 \neq 0, \text{létezik a mátrix inverze; } D^{-1} = \begin{pmatrix} \frac{2}{3} & \frac{1}{6} & -\frac{1}{6} \\ -\frac{2}{3} & \frac{1}{3} & \frac{2}{3} \\ \frac{1}{3} & \frac{1}{3} & -\frac{1}{3} \end{pmatrix}]$

(e) $E = \begin{pmatrix} -2 & 3 & -7 \\ 6 & -8 & 15 \\ 10 & -15 & 34 \end{pmatrix}$ $[\det(E) = 2 \neq 0, \text{létezik az inverz; } E^{-1} = \begin{pmatrix} -\frac{47}{2} & \frac{3}{2} & -\frac{11}{2} \\ -27 & 1 & -6 \\ -5 & 0 & -1 \end{pmatrix}]$

(f) $F = \begin{pmatrix} 2 & 1 & 1 \\ 3 & 3 & 2 \\ 4 & 3 & 3 \end{pmatrix}$ $[\det(F) = 2 \neq 0, \text{létezik a mátrix inverze; } F^{-1} = \begin{pmatrix} \frac{3}{2} & 0 & -\frac{1}{2} \\ -\frac{1}{2} & 1 & -\frac{1}{2} \\ -\frac{3}{2} & -1 & \frac{3}{2} \end{pmatrix}]$

(g) $G = \begin{pmatrix} 1 & -2 & 1 \\ 2 & 2 & 2 \\ 3 & -4 & -3 \end{pmatrix}$

$[\det(G) = -36 \neq 0, \text{létezik a mátrix inverze; } G^{-1} = \begin{pmatrix} -\frac{1}{18} & \frac{5}{18} & \frac{1}{6} \\ -\frac{1}{3} & \frac{1}{6} & 0 \\ \frac{7}{18} & \frac{1}{18} & -\frac{1}{6} \end{pmatrix}]$

36. Határozza meg a mátrix sajátértékeit!

(a) **B** $A = \begin{pmatrix} 9 & 4 \\ 3 & 5 \end{pmatrix}$ $[\lambda_1 = 3; \lambda_2 = 11]$

(b) **B** $B = \begin{pmatrix} 1 & 1 \\ -1 & 3 \end{pmatrix}$ $[\lambda_1 = \lambda_2 = 2]$

(c) $C = \begin{pmatrix} 1 & -1 & 1 \\ 1 & 1 & -1 \\ 2 & -1 & 0 \end{pmatrix}$ $[\lambda_1 = 2; \lambda_2 = 1; \lambda_3 = -1]$

37. Határozza meg a mátrix sajátértékeit és sajátvektorait!

$$(a) A = \begin{pmatrix} 2 & -3 \\ -2 & 1 \end{pmatrix} \quad \left[\lambda_1 = -1, s = \begin{pmatrix} t \\ t \end{pmatrix} = t \begin{pmatrix} 1 \\ 1 \end{pmatrix}, t \in \mathbb{R}, t \neq 0; \lambda_2 = 4, s = \begin{pmatrix} -\frac{3}{2}t \\ t \end{pmatrix} = t \begin{pmatrix} -\frac{3}{2} \\ 1 \end{pmatrix}, t \in \mathbb{R}, t \neq 0 \right]$$

$$(b) B = \begin{pmatrix} 3 & -1 \\ 4 & -2 \end{pmatrix} \quad \left[\lambda_1 = 2, s = \begin{pmatrix} t \\ t \end{pmatrix} = t \begin{pmatrix} 1 \\ 1 \end{pmatrix}, t \in \mathbb{R}, t \neq 0; \lambda_2 = -1, s = \begin{pmatrix} \frac{1}{4}t \\ t \end{pmatrix} = t \begin{pmatrix} \frac{1}{4} \\ 1 \end{pmatrix}, t \in \mathbb{R}, t \neq 0 \right]$$

$$(c) C = \begin{pmatrix} 2 & 2 \\ 3 & 1 \end{pmatrix} \quad \left[\lambda_1 = 4, s = \begin{pmatrix} t \\ t \end{pmatrix} = t \begin{pmatrix} 1 \\ 1 \end{pmatrix}, t \in \mathbb{R}, t \neq 0; \lambda_2 = -1, s = \begin{pmatrix} -\frac{2}{3}t \\ t \end{pmatrix} = t \begin{pmatrix} -\frac{2}{3} \\ 1 \end{pmatrix}, t \in \mathbb{R}, t \neq 0 \right]$$

$$(d) D = \begin{pmatrix} 3 & -1 \\ 4 & -2 \end{pmatrix} \quad \left[\lambda_1 = 2, s = \begin{pmatrix} t \\ t \end{pmatrix} = t \begin{pmatrix} 1 \\ 1 \end{pmatrix}, t \in \mathbb{R}, t \neq 0; \lambda_2 = -1, s = \begin{pmatrix} \frac{1}{4}t \\ t \end{pmatrix} = t \begin{pmatrix} \frac{1}{4} \\ 1 \end{pmatrix}, t \in \mathbb{R}, t \neq 0 \right]$$

$$(e) E = \begin{pmatrix} 1 & 2 & -3 \\ 2 & 4 & -6 \\ -1 & -2 & 3 \end{pmatrix} \quad \left[\lambda_1 = \lambda_2 = 0, s = \begin{pmatrix} -2t + 3u \\ u \\ t \end{pmatrix}, t, u \in \mathbb{R}, t, u \neq 0; \lambda_3 = 8, s = \begin{pmatrix} -t \\ -2t \\ t \end{pmatrix} = t \begin{pmatrix} -1 \\ -2 \\ 1 \end{pmatrix}, t \in \mathbb{R}, t \neq 0 \right]$$

38. Határozza meg az $B^2 - 3B^T$ mátrix sajátértékeit és determinánsát!

$$B = \begin{pmatrix} 11 & -1 \\ -4 & 1 \end{pmatrix} \quad \left[\lambda_1 = 2; \lambda_2 = 92; \det(B^2 - 3B^T) = 184 \right]$$

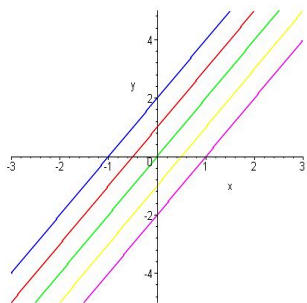
39. Határozza meg az $(A^T - 2B)^2$ mátrix sajátértékeit és determinánsát!

$$A = \begin{pmatrix} 2 & -3 \\ 1 & 1 \end{pmatrix}, B = \begin{pmatrix} -1 & 3 \\ 2 & 1 \end{pmatrix} \quad \left[\lambda_1 = 62, 77; \lambda_2 = 24, 23; \det((A^T - 2B)^2) = 1521 \right]$$

Többváltozós függvények

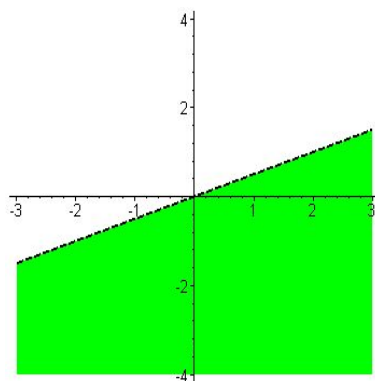
1. Ábrázolja az $f(x, y) = 2x - y$, $D(f) = \mathbb{R}^2$ függvény $c = -2; -1; 0; 1; 2$ magasságokhoz tartozó szintvonalait!

$c=-2, c=-1, c=0, c=1, c=2$



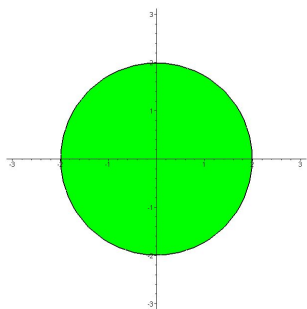
2. Határozza meg az $f(x, y) = \ln(x - 2y)$ függvény értelmezési tartományát!

$[y < \frac{1}{2}x]$

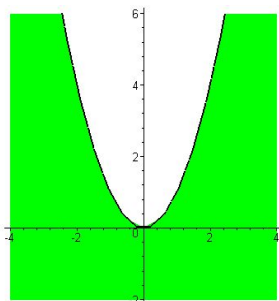


3. Határozza meg az $f(x, y) = \sqrt{4 - x^2 - y^2} + e^{x-y}$ függvény értelmezési tartományát!

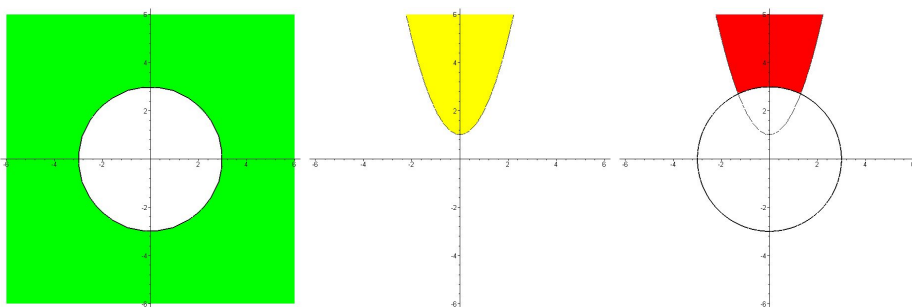
$[x^2 + y^2 \leq 4]$



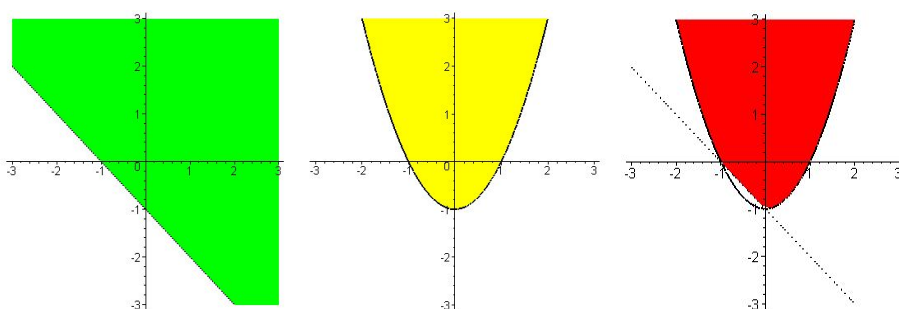
4. Határozza meg az $f(x, y) = \sqrt{x^2 - y} + \sqrt[5]{x - y^3}$ függvény értelmezési tartományát!
 $[y \geq x^2]$



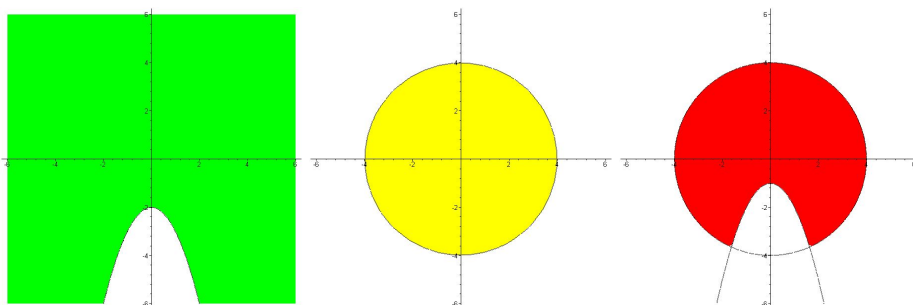
5. Határozza meg az $f(x, y) = \sqrt[4]{x^2 + y^2 - 9} - \ln(y - x^2 - 1)$ függvény értelmezési tartományát!
 $[x^2 + y^2 \geq 9; y > x^2 + 1; \text{értelmezési tartomány}]$



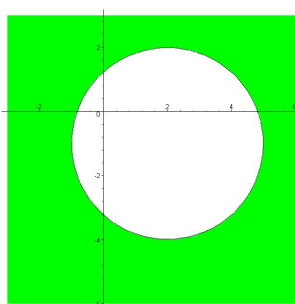
6. Határozza meg az $f(x, y) = \ln(x + y + 1) + \sqrt{y - x^2 + 1}$ függvény értelmezési tartományát!
 $[y > -x - 1; y \geq x^2 - 1; \text{értelmezési tartomány}]$



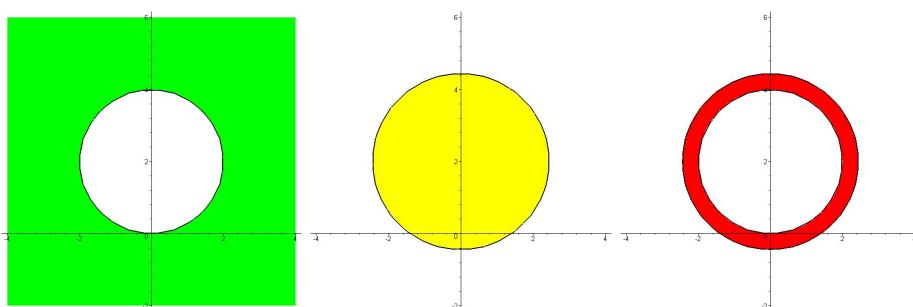
7. Határozza meg az $f(x, y) = \frac{\ln(y+x^2+2)}{\sqrt{-x^2-y^2+16}}$ függvény értelmezési tartományát!
 $[y > -x^2 - 2; x^2 + y^2 < 16; \text{értelmezési tartomány}]$



8. Határozza meg az $f(x, y) = \ln(x^2 - 4x + y^2 + 2y - 4)$ függvény értelmezési tartományát!
 $[(x - 2)^2 + (y + 1)^2 > 9; \text{kör:középpont}(2; -1), \text{sugár } r = 3]$



9. Határozza meg az $f(x, y) = \arccos(x^2 + y^2 - 4y - 1)$ függvény értelmezési tartományát!
 $[x^2 + (y - 2)^2 \geq 4; x^2 + (y - 2)^2 \leq 6; \text{értelmezési tartomány}]$



10. Határozza meg az $f(x, y) = x^2 \sin(y)$ függvény parciális derivált függvényeit!
 $[f_x(x, y) = \sin(y) \cdot 2x; f_y(x, y) = x^2 \cdot \cos(y)]$

11. Határozza meg az $f(x, y) = x^2 y - xy^3$ függvény parciális derivált függvényeit!
 $[f_x(x, y) = y \cdot 2x - y^3 \cdot 1 = 2xy - y^3; f_y(x, y) = x^2 \cdot 1 - x \cdot y^3 = x^2 - 3xy^2]$

12. Határozza meg az $f(x, y) = x^2 e^{2y}$ függvény parciális derivált függvényeit!
 $[f_x(x, y) = e^{2y} \cdot 2x = 2xe^{2y}; f_y(x, y) = x^2 \cdot e^{2y} \cdot 2 = 2x^2 e^{2y}]$
13. Határozza meg az $f(x, y) = (2xy - y^4)^3$ függvény parciális derivált függvényeit!
 $[f_x(x, y) = 3(2xy - y^4)^2 \cdot (2y \cdot 1 - 0) = 6y(2xy - y^4)^2;$
 $f_y(x, y) = 3(2xy - y^4)^2 \cdot (2x \cdot 1 - 4y^3) = 3(2xy - y^4)^2(2x - 4y^3)]$
14. Határozza meg az $f(x, y) = \sqrt{x^2 y^2 + x^7}$ függvény parciális derivált függvényeit!
 $[f_x(x, y) = \frac{1}{2\sqrt{x^2 y^2 + x^7}} \cdot (y^2 \cdot 2x + 7x^6) = \frac{2xy^2 + 7x^6}{2\sqrt{x^2 y^2 + x^7}};$
 $f_y(x, y) = \frac{1}{2\sqrt{x^2 y^2 + x^7}} \cdot (x^2 \cdot 2y + 0) = \frac{xy^2}{\sqrt{x^2 y^2 + x^7}}]$
15. Határozza meg az $f(x, y, z) = xy^2 z + 3x^5 - 2y + 6z$ függvény parciális derivált függvényeit!
 $[f_x(x, y, z) = y^2 z \cdot 1 + 3 \cdot 5x^4 - 0 + 0 = y^2 z + 15x^4; f_y(x, y, z) = xz \cdot 2y + 0 - 2 \cdot 1 + 0 = 2xyz - 2;$
 $f_z(x, y, z) = xy^2 \cdot 1 + 0 - 0 + 6 \cdot 1 = xy^2 + 6]$
16. Határozza meg az $f(x, y) = x^y$ függvény parciális derivált függvényeit!
 $[f_x(x, y) = yx^{y-1}, ({}^y x^{3^y}); f_y(x, y) = x^y \ln(y), ({}^y 3^y)]$
17. Határozza meg az $f(x, y) = \ln(2x^2 + xy^5)$ függvény parciális derivált függvényeit!
 $[f_x(x, y) = \frac{1}{2x^2 + xy^5} \cdot (2 \cdot 2x + y^5 \cdot 1) = \frac{4x + y^5}{2x^2 + xy^5};$
 $f_y(x, y) = \frac{1}{2x^2 + xy^5} \cdot (0 + x \cdot 5y^4) = \frac{5xy^4}{2x^2 + xy^5}]$
18. Határozza meg az $f(x, y) = \frac{\sqrt{2x - 3y^2}}{x^2 y^4 + 2}$ függvény parciális derivált függvényeit!
 $[f_x(x, y) = \frac{\frac{1}{2\sqrt{2x-3y^2}} \cdot (2 \cdot 1 - 0) \cdot (x^2 y^4 + 2) - \sqrt{2x - 3y^2} \cdot (y^4 \cdot 2x + 0)}{(x^2 y^4 + 2)^2} =$
 $\frac{\frac{x^2 y^4 + 2}{\sqrt{2x-3y^2}} - 2xy^4 \sqrt{2x-3y^2}}{(x^2 y^4 + 2)^2};$
 $f_y(x, y) = \frac{\frac{1}{2\sqrt{2x-3y^2}} \cdot (0 - 3 \cdot 2y) \cdot (x^2 y^4 + 2) - \sqrt{2x - 3y^2} \cdot (x^2 \cdot 4y^3 + 0)}{(x^2 y^4 + 2)^2} =$
 $\frac{-3y(x^2 y^4 + 2)}{\sqrt{2x-3y^2}} - 4x^2 y^3 \sqrt{2x - 3y^2}}{(x^2 y^4 + 2)^2}]$
19. Írja fel az $f : \mathbb{R}^2 \rightarrow \mathbb{R} : f(x, y) = x^2 - xy + 2y^2$ függvény érintőjének egyenletét az $(1; -1)$ pontban!
 $[f_x(x, y) = 2x - y; f_y(x, y) = -x + 4y; \text{érintősík egyenlete: } 3x - 5y - z - 4 = 0]$
20. Írja fel az $f : \mathbb{R}^2 \rightarrow \mathbb{R} : f(x, y) = \sqrt{36 - x^2 - y^2}$ függvény érintőjének egyenletét az $(2; 4)$ pontban!

$$[f_x(x, y) = -\frac{x}{\sqrt{36 - x^2 - y^2}}; f_y(x, y) = -\frac{y}{\sqrt{36 - x^2 - y^2}}; \text{érintősík egyenlete: } -\frac{1}{2}x - y - z + 9 = 0]$$

21. Írja fel az $f : R^2 \rightarrow R : f(x, y) = 2 \ln\left(\frac{y}{x} + x^2\right)$ függvény érintőjének egyenletét az $(1; 1)$ pontban!
 $[x + y - z + 2 \ln(2) - 2 = 0; x + y - z + 2 \ln\left(\frac{2}{e}\right) = 0]$
22. Írja fel az $f : R^2 \rightarrow R : f(x, y) = e^{-x^2 - y^2}$ függvény érintőjének egyenletét az $\left(\frac{1}{\sqrt{2}}; \frac{1}{\sqrt{2}}\right)$ pontban!
 $[f_x(x, y) = -2xe^{-x^2 - y^2}; f_x\left(\frac{1}{\sqrt{2}}; \frac{1}{\sqrt{2}}\right) = -2\frac{1}{\sqrt{2}} \cdot e^{-1} = -\frac{\sqrt{2}}{e}; f_y(x, y) = -2ye^{-x^2 - y^2};$
 $f_y\left(\frac{1}{\sqrt{2}}; \frac{1}{\sqrt{2}}\right) = -2\frac{1}{\sqrt{2}} \cdot e^{-1} = -\frac{\sqrt{2}}{e}; \text{érintősík egyenlete: } -\frac{\sqrt{2}}{e}x - \frac{\sqrt{2}}{e}y - z + \frac{3}{e} = 0; -e\text{-vel}$
szorozva: $\sqrt{2}x + \sqrt{2}y + ez - 3 = 0]$
23. Határozza meg az $f : R^2 \rightarrow R : f(x, y) = 2xy^2 - y$ függvény $\underline{u}(1; 2)$ irányú iránymenti deriváltját a $(1; -1)$ pontban!
 $[f_{\underline{u}}(1; -1) = -\frac{8}{\sqrt{5}}]$
24. Határozza meg az $f : R^2 \rightarrow R : f(x, y) = xe^y - ye^x$ függvény $\underline{u}(-5; 2)$ irányú iránymenti deriváltját a $(0; 0)$ pontban!
 $[f_x(x, y) = e^y - ye^x; f_y(x, y) = xe^y - e^x; f_{\underline{u}}(-5; 2) = -\frac{7}{\sqrt{29}}]$
25. Határozza meg az $f : R^2 \rightarrow R : f(x, y) = (x + 2y)^3$ függvény $\underline{u}(2; 1)$ irányú iránymenti deriváltját a $P(1; 1)$ pontban!
 $[f_{\underline{u}}(1; 1) = \frac{108}{\sqrt{5}}]$
26. Határozza meg az $f : R^2 \rightarrow R : f(x, y) = x \ln(x + y)$ függvény gradiensét a $(3; -2)$ pontban!
 $[grad_f(3; -2) = \nabla f(3; -2) = (3, 3)]$
27. Határozza meg az $f : R^2 \rightarrow R : f(x, y) = \ln \sqrt{x^2 + y^2}$ függvény gradiensét a $(3; 4)$ pontban!
 $[f(x, y) = \ln \sqrt{x^2 + y^2} = \ln(x^2 + y^2)^{\frac{1}{2}} = \frac{1}{2} \ln(x^2 + y^2); f_x(x, y) = \frac{x}{x^2 + y^2}; f_y(x, y) = \frac{y}{x^2 + y^2}; grad_f(3; 4) = \nabla f(3; 4) = \left(\frac{3}{25}, \frac{4}{25}\right)]$
28. Határozza meg az $f : R^2 \rightarrow R : f(x, y) = \sqrt{e^{3x}} \cdot \sin(3y)$ függvény másodrendű parciális deriváltjait!
 $[f_x(x, y) = \frac{3}{2}e^{\frac{3}{2}x} \cdot \sin(3y); f_y(x, y) = 3e^{\frac{3}{2}x} \cdot \cos(3y); f_{x,x}(x, y) = \frac{9}{4}e^{\frac{3}{2}x} \cdot \sin(3y); f_{x,y}(x, y) = \frac{9}{2}e^{\frac{3}{2}x} \cdot \cos(3y); f_{y,x}(x, y) = \frac{9}{2}e^{\frac{3}{2}x} \cdot \cos(3y); f_{y,y}(x, y) = -9e^{\frac{3}{2}x} \cdot \sin(3y)]$
29. Határozza meg az $f : R^2 \rightarrow R : f(x, y) = x^2 e^{xy^2}$ függvény másodrendű parciális deriváltjait!
 $[f_x(x, y) = 2xe^{xy^2} + x^2 y^2 e^{xy^2} = (2x + x^2 y^2) \cdot e^{xy^2}; f_y(x, y) = 2x^3 y \cdot e^{xy^2}; f_{xx}(x, y) = (2 + 2xy^2)e^{xy^2} + (2x + x^2 y^2)e^{xy^2} y^2; f_{xy}(x, y) = (2x^2 y)e^{xy^2} + (2x + x^2 y^2)e^{xy^2} 2xy; f_{yx}(x, y) = 6x^2 y e^{xy^2} + 2x^3 y^3 e^{xy^2}; f_{yy}(x, y) = 2x^3 e^{xy^2} + 4x^4 y^2 e^{xy^2}]$
30. Legyen $f : R^2 \rightarrow R : f(x, y) = x^3 y^2 + xy^3 - 8x + y^2$. Számítsa ki $f_{xxy}(x, y)$ parciális deriváltat!
 $[f_x(x, y) = 3x^2 y^2 + y^3 - 8; f_{xx}(x, y) = 6xy^2; f_{xxy}(x, y) = 12xy]$
31. Legyen $f : R^3 \rightarrow R : f(x, y, z) = xe^y + yz^3 + xyz$. Számítsa ki $f_{zxy}(x, y, z)$ parciális deriváltat!
 $[f_z(x, y, z) = 3yz^2 + xy; f_{zx}(x, y, z) = y; f_{zxy}(x, y, z) = 1]$

32. Legyen $f : R^3 \rightarrow R : f(x, y, z) = \sin(x^2 + y^2 - z^2)$. Számítsa ki $f_{xxz}(x, y, z)$ parciális deriváltat!
 $[f_x(x, y, z) = 2x \cdot \cos(x^2 + y^2 - z^2); f_{xx}(x, y, z) = 2 \cos(x^2 + y^2 - z^2) - 4x^2 \cdot \sin(x^2 + y^2 - z^2); f_{xxz}(x, y, z) = 4z \sin(x^2 + y^2 - z^2) + 8x^2 z \cos(x^2 + y^2 - z^2)]$
33. Legyen $f : R^3 \rightarrow R : f(x, y, z) = \arctg(3x^6 - y^2) + x^3 \sin(z^2) - x^4 y^2 z^5 + \cos^8(z)$. Számítsa ki $f_{zyx}(x, y, z)$ parciális deriváltat!
 $[f_z(x, y, z) = 2x^3 z \cos(z^2) - 5x^4 y^2 z^4 - 8(\cos(z))^7 \sin(z); f_{zy}(x, y, z) = -10x^4 y z^4; f_{zyx}(x, y, z) = -40x^3 y z^4]$
34. Határozza meg hol és milyen szélsőértéke van az $f(x, y) = 2x^2 + 4y^2 + 2xy + 6$ kétváltozós függvénynek!
 $[D(f) = R^2$
 $f_x(x, y) = 4x + 2y; f_y(x, y) = 2x + 8y$
 stacionárius pontok: $(0; 0)$
 $f_{xx}(x, y) = 4; f_{xy}(x, y) = 2; f_{yx}(x, y) = 2; f_{yy}(x, y) = 8$
 $(0; 0)$ -lokális minimumhely; $f(0; 0) = 6]$
35. Határozza meg hol és milyen szélsőértéke van az $f(x, y) = xy - x^3 - y^2$ kétváltozós függvénynek!
 $[D(f) = R^2$
 $f_x(x, y) = y - 3x^2; f_y(x, y) = x - 2y$
 stacionárius pontok: $(0; 0), (\frac{1}{6}; \frac{1}{12})$
 $f_{xx}(x, y) = -6x; f_{xy}(x, y) = 1; f_{yx}(x, y) = 1; f_{yy}(x, y) = -2$
 $(0; 0)$ - nem szélsőérték hely
 $(\frac{1}{6}; \frac{1}{12})$ -lokális maximumhely; $f(\frac{1}{6}; \frac{1}{12}) = \frac{1}{432}]$
36. Határozza meg hol és milyen szélsőértéke van az $f(x, y) = x^3 - 3xy - y^3$ kétváltozós függvénynek!
 $[D(f) = R^2$
 $f_x(x, y) = 3x^2 - 3y; f_y(x, y) = -3x - 3y^2$
 stacionárius pontok: $(0; 0), (-1; 1)$
 $f_{xx}(x, y) = 6x; f_{xy}(x, y) = -3; f_{yx}(x, y) = -3; f_{yy}(x, y) = -6y$
 $(0; 0)$ - nem szélsőérték hely
 $(-1; 1)$ -lokális maximumhely; $f(-1; 1) = 1]$
37. Határozza meg hol és milyen szélsőértéke van az $f(x, y) = x^2 + y^2 + \frac{2}{xy}$ kétváltozós függvénynek!
 [A függvény értelmezési tartománya az egész sík, kivéve a koordinátatengelyek pontjait, hiszen a nevező miatt sem x , sem y nem lehet nulla.
 $f(x, y) = x^2 + y^2 + \frac{2}{xy} = x^2 + y^2 + 2x^{-1}y^{-1}$
 $f_x(x, y) = 2x - \frac{2}{x^2 y}; f_y(x, y) = 2y - \frac{2}{xy^2}$
 stacionárius pontok: $(-1; -1), (1; 1)$
 $f_{xx}(x, y) = 2 + \frac{4}{x^3 y}; f_{xy}(x, y) = \frac{2}{x^2 y^2}; f_{yx}(x, y) = \frac{2}{x^2 y^2}; f_{yy}(x, y) = 2 + \frac{4}{xy^3}$
 $(-1; -1)$ -lokális minimumhely; $f(-1; -1) = 4$
 $(1; 1)$ -lokális minimumhely; $f(1; 1) = 4]$

38. Határozza meg az $f(x, y) = xy(x^2y^2 - 1)$ függvény kétszeres integrálját a $\{(x, y) \in \mathbb{R}^2 : 1 \leq x \leq 3; 0 \leq y \leq 2\}$ tartományon!

Megoldás:

$$\begin{aligned} \int_0^2 \left(\int_1^3 (x^3y^3 - xy) dx \right) dy &= \int_1^3 \left(\int_0^2 (x^3y^3 - xy) dy \right) dx \\ \int_0^2 (x^3y^3 - xy) dy &= \left[x^3 \cdot \frac{y^4}{4} - x \cdot \frac{y^2}{2} \right]_0^2 = \left[\frac{1}{4}x^3y^4 - \frac{1}{2}xy^2 \right]_0^2 = 4x^3 - 2x \\ \int_1^3 \left(\int_0^2 (x^3y^3 - xy) dy \right) dx &= \int_1^3 (4x^3 - 2x) dx = \left[x^4 - x^2 \right]_1^3 = 72 \end{aligned}$$

39. Határozza meg az $f(x, y) = 2xy$ függvény kettősintegrálját a $\{(x, y) \in \mathbb{R}^2 : 0 \leq x \leq 1; x \leq y \leq \sqrt{x}\}$ tartományon!

Megoldás:

$$\begin{aligned} \int_0^1 \left(\int_x^{\sqrt{x}} (2xy) dy \right) dx \\ \int_x^{\sqrt{x}} (2xy) dy &= \left[2x \cdot \frac{y^2}{2} \right]_x^{\sqrt{x}} = \left[xy^2 \right]_x^{\sqrt{x}} = x^2 - x^3 \\ \int_0^1 \left(\int_x^{\sqrt{x}} (2xy) dy \right) dx &= \int_0^1 (x^2 - x^3) dx = \left[\frac{1}{3}x^3 - \frac{1}{4}x^4 \right]_0^1 = \frac{1}{12} \end{aligned}$$

40. Határozza meg az $f(x, y) = \frac{1}{(x+y)^4}$ függvény kettősintegrálját a $\{(x, y) \in \mathbb{R}^2 : 3 \leq x \leq 7; -2 \leq y \leq -1\}$ tartományon!

Megoldás:

$$\begin{aligned} \int_3^7 \left(\int_{-2}^{-1} \frac{1}{(x+y)^4} dy \right) dx &= \int_{-2}^{-1} \left(\int_3^7 \frac{1}{(x+y)^4} dx \right) dy \\ \int_3^7 \frac{1}{(x+y)^4} dx &= \int_3^7 (x+y)^{-4} dx = \left[-\frac{1}{3} \cdot \frac{1}{(x+y)^3} \right]_3^7 = -\frac{1}{3} \cdot \frac{1}{(7+y)^3} + \frac{1}{3} \cdot \frac{1}{(3+y)^3} \\ \int_{-2}^{-1} \left(\int_3^7 \frac{1}{(x+y)^4} dx \right) dy &= \int_{-2}^{-1} \left(-\frac{1}{3} \cdot \frac{1}{(7+y)^3} + \frac{1}{3} \cdot \frac{1}{(3+y)^3} \right) dy = \\ \int_{-2}^{-1} \left(-\frac{1}{3} \cdot (7+y)^{-3} + \frac{1}{3} \cdot (3+y)^{-3} \right) dy &= \left[\frac{1}{6} \cdot \frac{1}{(7+y)^2} - \frac{1}{6} \cdot \frac{1}{(3+y)^2} \right]_{-2}^{-1} = \frac{83}{675} \end{aligned}$$

41. Határozza meg az $f(x, y) = 10x^2 + 8xy$ függvény kettősintegrálját a $\{(x, y) \in \mathbb{R}^2 : 0 \leq x \leq 1; -x \leq y \leq \sqrt{x}\}$ tartományon!

Megoldás:

$$\begin{aligned} \int_0^1 \left(\int_{-x}^{\sqrt{x}} (10x^2 + 8xy) dy \right) dx \\ \int_{-x}^{\sqrt{x}} (10x^2 + 8xy) dy &= \left[10x^2 \cdot y + 8x \cdot \frac{y^2}{2} \right]_{-x}^{\sqrt{x}} = \left[10x^2y + 4xy^2 \right]_{-x}^{\sqrt{x}} = 10x^{\frac{5}{2}} + 4x^2 + 6x^3 \\ \int_0^1 \left(\int_{-x}^{\sqrt{x}} (10x^2 + 8xy) dy \right) dx &= \int_0^1 (10x^{\frac{5}{2}} + 4x^2 + 6x^3) dx = \left[\frac{20}{7} \cdot x^{\frac{7}{2}} + \frac{4}{3} \cdot x^3 + \frac{3}{2} \cdot x^4 \right]_0^1 = \end{aligned}$$

$$\frac{239}{42}$$

42. Határozza meg az $f(x, y) = yx^2 + 4$ függvény kettősintegrálját a $\{(x, y) \in R^2 : 0 \leq x \leq 1; x \leq y \leq x^2 + 2\}$ tartományon!

Megoldás:

$$\begin{aligned} & \int_0^1 \left(\int_x^{x^2+2} (yx^2 + 4) dy \right) dx \\ & \int_x^{x^2+2} (yx^2 + 4) dy = \left[x^2 \cdot \frac{y^2}{2} + 4 \cdot y \right]_x^{x^2+2} = \left[\frac{1}{2}x^2y^2 + 4y \right]_x^{x^2+2} = \frac{1}{2}x^6 + \frac{3}{2}x^4 + 6x^2 - 4x + 8 \\ & \int_0^1 \left(\int_x^{x^2+2} (yx^2 + 4) dy \right) dx = \int_0^1 \left(\frac{1}{2}x^6 + \frac{3}{2}x^4 + 6x^2 - 4x + 8 \right) dx = \\ & \left[\frac{1}{14}x^7 + \frac{3}{10}x^5 + 2x^3 - 2x^2 + 8x \right]_0^1 = \frac{293}{35} \end{aligned}$$

43. Határozza meg az $f(x, y) = x^2 - y$ függvény kétszeres integrálját az $y = 3x - x^2$ és $y = x$ függvények által közrezárt tartományon!

Megoldás:

$$\text{Tartomány} = \{(x, y) \in R^2 : 0 \leq x \leq 2; x \leq y \leq 3x - x^2\}$$

$$\begin{aligned} & \int_0^2 \left(\int_x^{3x-x^2} (x^2 - y) dy \right) dx \\ & \int_x^{3x-x^2} (2xy) dy = \left[x^2 \cdot y - \frac{y^2}{2} \right]_x^{3x-x^2} = \left[x^2y - \frac{1}{2}y^2 \right]_x^{3x-x^2} = -\frac{3}{2}x^4 + 5x^3 - 4x^2 \\ & \int_0^2 \left(\int_x^{3x-x^2} (x^2 - y) dy \right) dx = \int_0^2 \left(-\frac{3}{2}x^4 + 5x^3 - 4x^2 \right) dx = \left[-\frac{3}{10}x^5 + \frac{5}{4}x^4 - \frac{4}{3}x^3 \right]_0^2 = \\ & -\frac{4}{15} \end{aligned}$$

44. Határozza meg az $f(x, y) = 3xy + 4x^2$ függvény kétszeres integrálját az $y = x^2 - 5$ és $y = 4$ függvények által közrezárt tartományon!

Megoldás:

$$\text{Tartomány} = \{(x, y) \in R^2 : -3 \leq x \leq 3; x^2 - 5 \leq y \leq 4\}$$

$$\begin{aligned} & \int_{-3}^3 \left(\int_{x^2-5}^4 (3xy + 4x^2) dy \right) dx \\ & \int_{x^2-5}^4 (3xy + 4x^2) dy = \left[3x \cdot \frac{y^2}{2} + 4x^2 \cdot y \right]_{x^2-5}^4 = \left[\frac{3}{2}xy^2 + 4x^2y \right]_{x^2-5}^4 = -\frac{3}{2}x^5 - 4x^4 + 15x^3 + \\ & 36x^2 - \frac{27}{2}x \\ & \int_{-3}^3 \left(\int_{x^2-5}^4 (3xy + 4x^2) dy \right) dx = \int_{-3}^3 \left(-\frac{3}{2}x^5 - 4x^4 + 15x^3 + 36x^2 - \frac{27}{2}x \right) dx = \\ & \left[-\frac{1}{4}x^6 - \frac{4}{5}x^5 + \frac{15}{4}x^4 + 12x^3 - \frac{27}{4}x^2 \right]_{-3}^3 = \frac{1296}{5} \end{aligned}$$

45. Határozza meg az $f(x, y) = 1 + \frac{1}{2}x - y$ függvény kétszeres integrálját az $y = x^2 - 4$ és $y = 0$ függvények által közrezárt tartományon!

Megoldás:

$$\text{Tartomány} = \{(x, y) \in \mathbb{R}^2 : -2 \leq x \leq 2; x^2 - 4 \leq y \leq 0\}$$

$$\int_{-2}^2 \left(\int_{x^2-4}^0 \left(1 + \frac{1}{2}x - y \right) dy \right) dx$$

$$\int_{x^2-4}^0 \left(1 + \frac{1}{2}x - y \right) dy = \left[y + \frac{1}{2}xy - \frac{1}{2}y^2 \right]_{x^2-4}^0 = \frac{1}{2}x^4 - \frac{1}{2}x^3 - 5x^2 + 2x + 12$$

$$\int_{-2}^2 \left(\int_{x^2-4}^0 \left(1 + \frac{1}{2}x - y \right) dy \right) dx = \int_{-2}^2 \left(\frac{1}{2}x^4 - \frac{1}{2}x^3 - 5x^2 + 2x + 12 \right) dx = \left[\frac{1}{10}x^5 - \frac{1}{8}x^4 - \frac{5}{3}x^3 + x^2 + 12x \right]_{-2}^2 = 27,733$$

46. Határozza meg az $f(x, y) = 4 - y^2$ függvény kétszeres integrálját az $y = 2 - x^2$ és $y = x^2 - 2$ függvények által közrezárt tartományon!

Megoldás:

$$\text{Tartomány} = \{(x, y) \in \mathbb{R}^2 : -\sqrt{2} \leq x \leq \sqrt{2}; x^2 - 2 \leq y \leq 2 - x^2\}$$

$$\int_{-\sqrt{2}}^{\sqrt{2}} \left(\int_{x^2-2}^{2-x^2} (4 - y^2) dy \right) dx$$

$$\int_{x^2-2}^{2-x^2} (4 - y^2) dy = \left[4y - \frac{1}{3}y^3 \right]_{x^2-2}^{2-x^2} = \frac{2}{3}x^6 - 4x^4 + \frac{32}{3}$$

$$\int_{-\sqrt{2}}^{\sqrt{2}} \left(\int_{x^2-2}^{2-x^2} (4 - y^2) dy \right) dx = \int_{-\sqrt{2}}^{\sqrt{2}} \left(\frac{2}{3}x^6 - 4x^4 + \frac{32}{3} \right) dx =$$

$$\left[\frac{2}{21}x^7 - \frac{4}{5}x^5 + \frac{32}{3}x \right]_{-\sqrt{2}}^{\sqrt{2}} = 23,2739$$